



時こくと時間の もとめかた 2

16

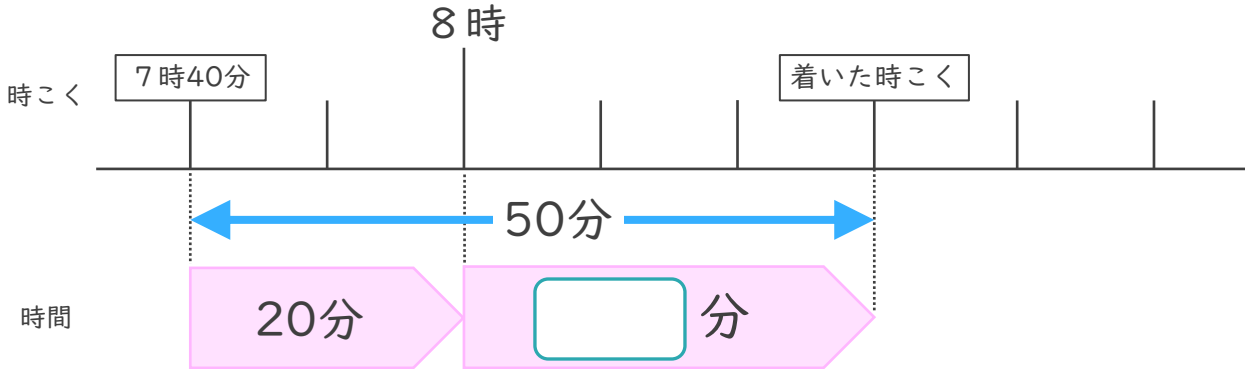
時こくをもとめる (数直線)

めざせ75点!



名まえ _____

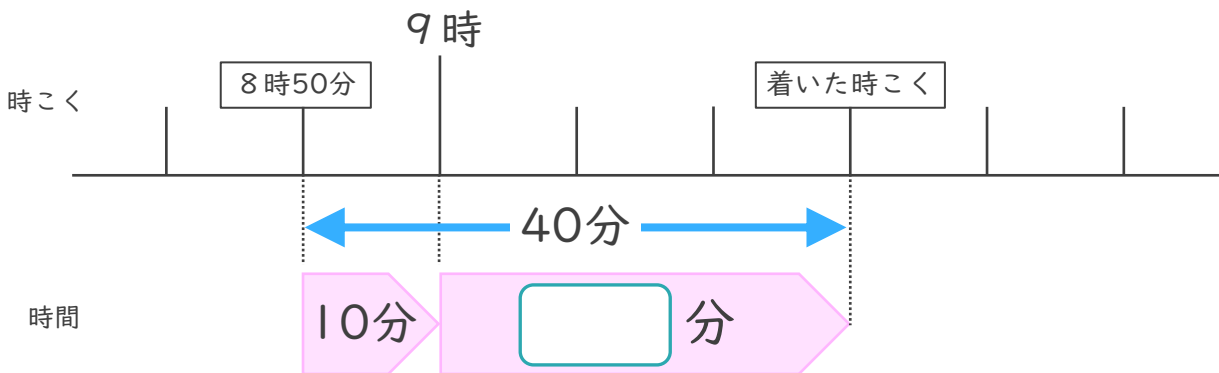
1 家を午前7時40分^{ごぜん}に出て、50分歩くと学校に着^つきました。



- ① □にあてはまる数を書きましょう。(25点)
- ② 学校に着いた時こくは何時何分ですか。(25点)

答え ()

2 家を午前8時50分^{びょういん}に出て、40分歩くと病院に着きました。



- ① □にあてはまる数を書きましょう。(25点)
- ② 病院に着いた時こくは何時何分ですか。(25点)

答え ()



時こくと時間の もとめかた 2

16

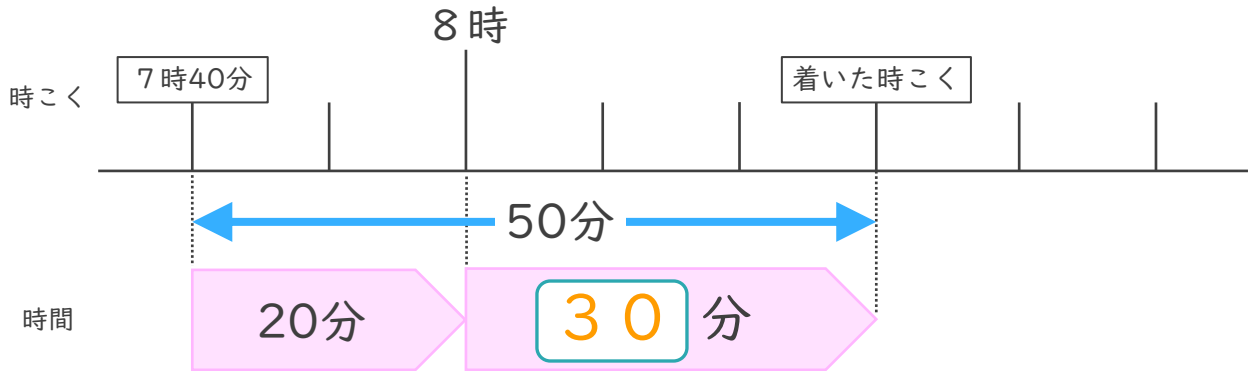
● 時こくをもとめる (数直線)

めざせ75点!



名まえ _____

1 家を午前7時40分^{こぜん}に出て、50分歩くと学校に着^つきました。

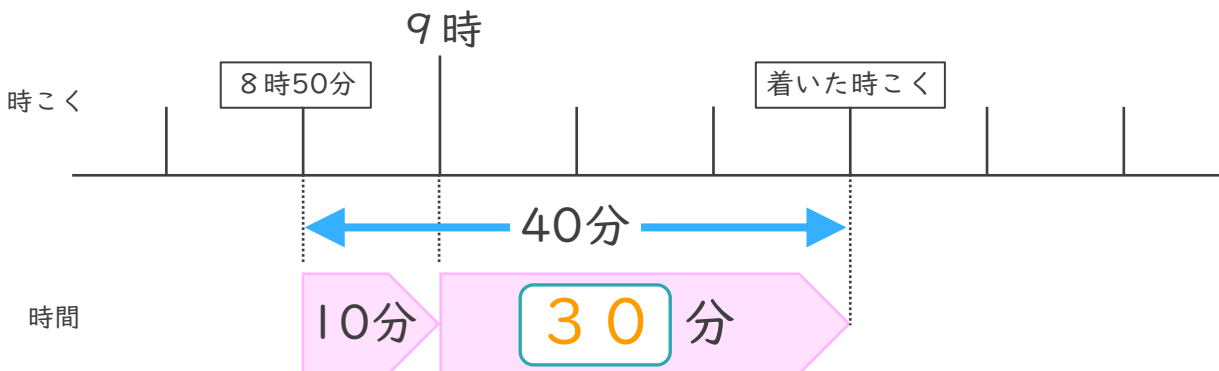


① にあてはまる数を書きましょう。(25点)

② 学校に着いた時こくは何時何分ですか。(25点)

答え (午前 8 時 3 0 分)

2 家を午前8時50分^{びょういん}に出て、40分歩くと病院に着きました。



① にあてはまる数を書きましょう。(25点)

② 病院に着いた時こくは何時何分ですか。(25点)

答え (午前 9 時 3 0 分)