




時こくと時間の もとめかた 8 16

◎ 正午をはさむ計算

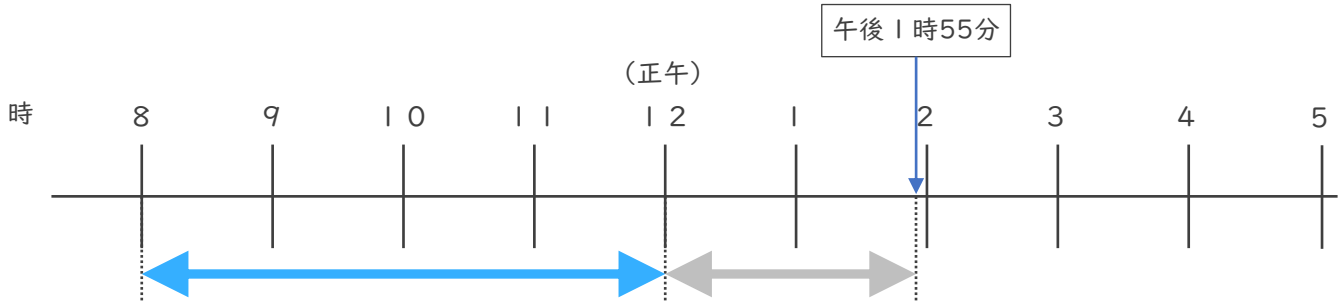
めざせ100点!



名まえ _____

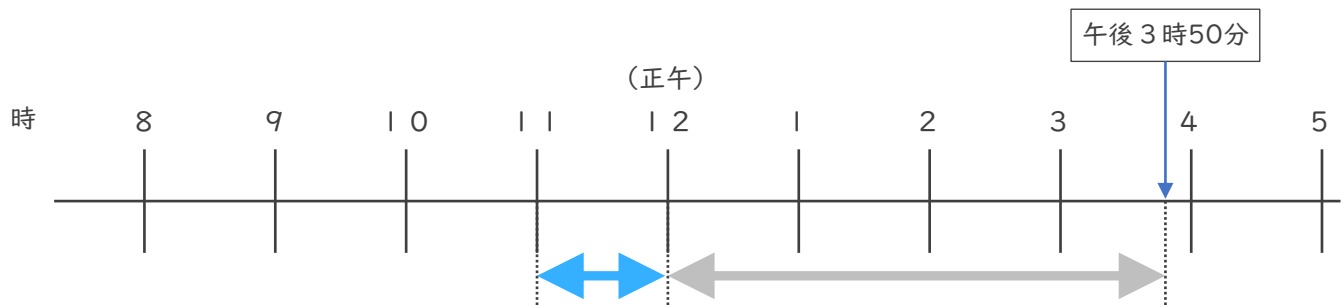
・ 次の時間をもとめましょう。

① 午前8時から午後1時55分までの時間 (35点)



答え ()

② 午前11時から午後3時50分までの時間 (35点)



答え ()

③ 午前7時45分から午前11時20分までの時間 (30点)

	時	分
—	時	分
	時	分


答え ()



時こくと時間の もとめかた 8 16

◎ 正午をはさむ計算

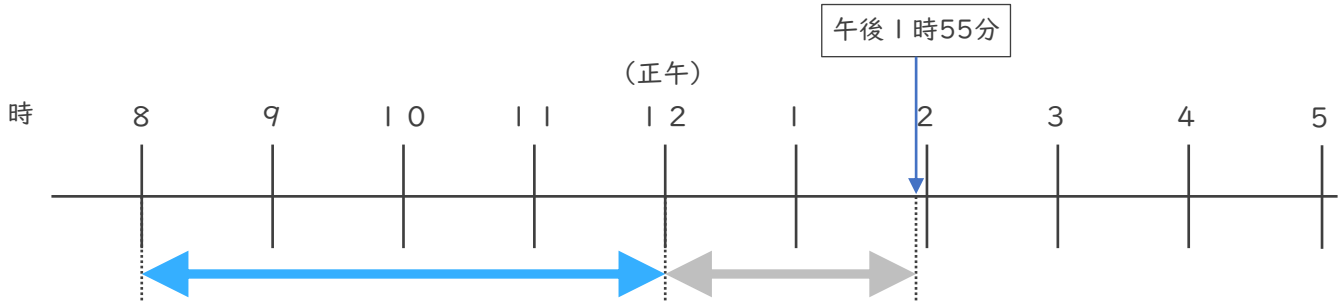
めざせ100点!



名まえ _____

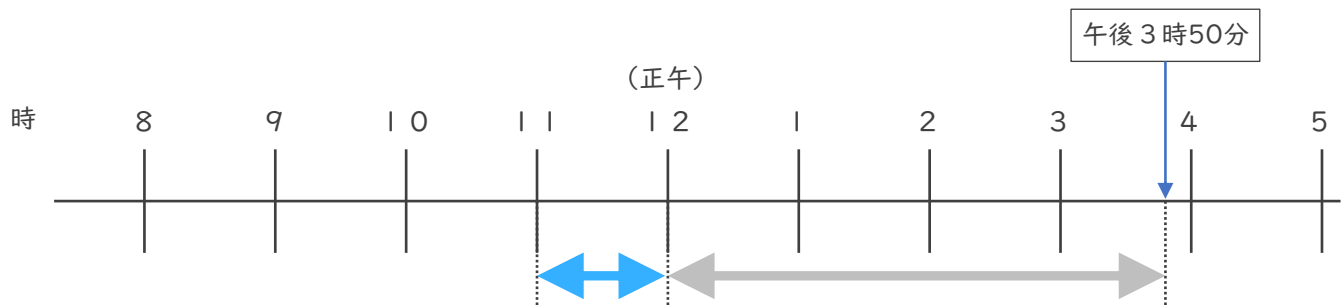
・ 次の時間をもとめましょう。

① 午前8時から午後1時55分までの時間 (35点)



答え (5 時間 5 5 分)

② 午前11時から午後3時50分までの時間 (35点)



答え (4 時間 5 0 分)

③ 午前7時45分から午前11時20分までの時間 (30点)

	10	80	
	11	時	20 分
-	7	時	45分
<hr/>			
	3	時	35分

答え (3 時間 3 5 分)