




円と球 10

● 球の半径や直径の長さ

16

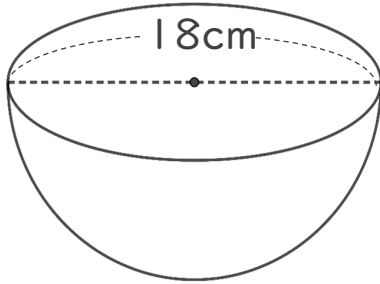
目指せ75点!



名まえ _____

・ 次の円の半径や直径は何cmですか。(各25点)

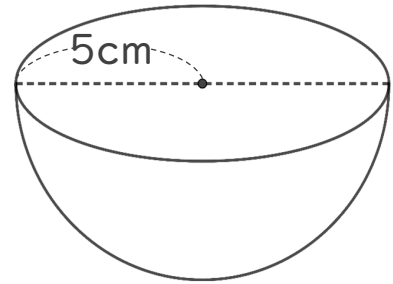
① 半径は何cmですか。



式：

答え： _____

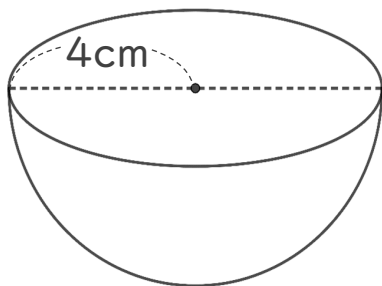
③ 直径は何cmですか。



式：

答え： _____

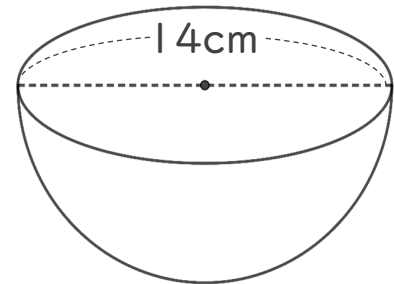
② 直径は何cmですか。



式：

答え： _____

④ 半径は何cmですか。



式：

答え： _____



円と球 10

● 球の半径や直径の長さ

16

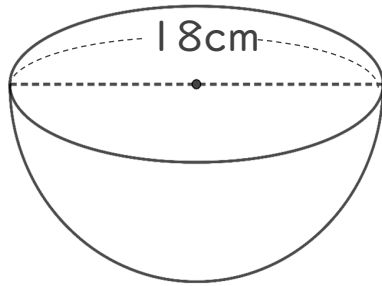
目指せ75点!



名まえ _____

・ 次の円の半径や直径は何cmですか。(各25点)

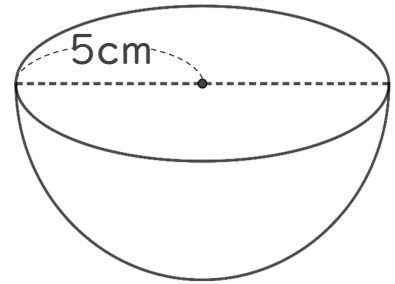
① 半径は何cmですか。



$$\text{式： } 18 \div 2 = 9$$

答え： 9 cm

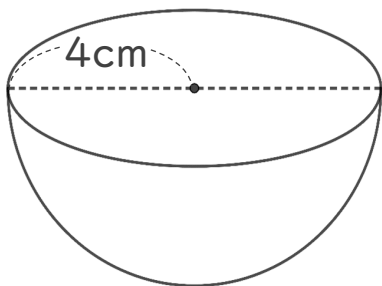
③ 直径は何cmですか。



$$\text{式： } 5 \times 2 = 10$$

答え： 10 cm

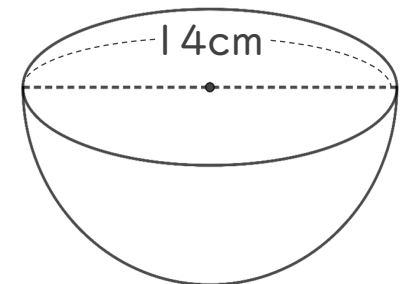
② 直径は何cmですか。



$$\text{式： } 4 \times 2 = 8$$

答え： 8 cm

④ 半径は何cmですか。



$$\text{式： } 14 \div 2 = 7$$

答え： 7 cm