




ぼうグラフと表 3

● 表をぼうグラフに表そう

16

めざせ100点!




名まえ _____

・ 次の表を、ぼうグラフに表しましょう。(100点)

すきな動物調べ

動物	犬	ねこ	うさぎ	パンダ	その他	合計
人数(人)	14	10	5	2	3	34

()






ぼうグラフと表 3

● 表をぼうグラフに表そう

16

めざせ100点!



名まえ _____

・ 次の表を、ぼうグラフに表しましょう。(100点)

すきな動物調べ

動物	犬	ねこ	うさぎ	パンダ	その他	合計
人数(人)	14	10	5	2	3	34

(人)

すきな動物調べ

