




長いものの長さの  
はかり方と表し方 8

● きよりと道のり

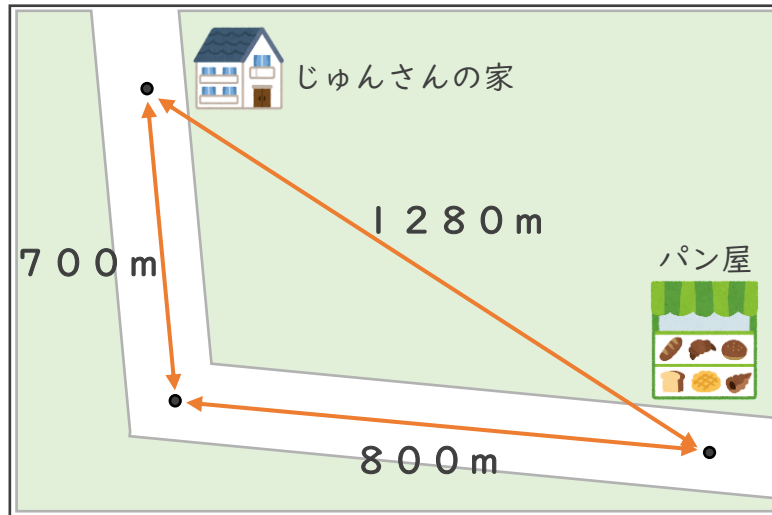
16

めざせ80点!



名まえ

- ・ じゅんさんは家からパン屋まで買いものに行きます。  
次の問いに答えましょう。(式・答え 各20点)



- ① 家からパン屋までのきよりは、何mですか。また、何km何mですか。

答え (                      m ) ・ (           km           m )

- ② 家からパン屋までの道のりは、何mですか。また、何km何mですか。

式：

答え (                      m ) ・ (           km           m )




長いものの長さの  
はかり方と表し方 8

● きよりと道のり

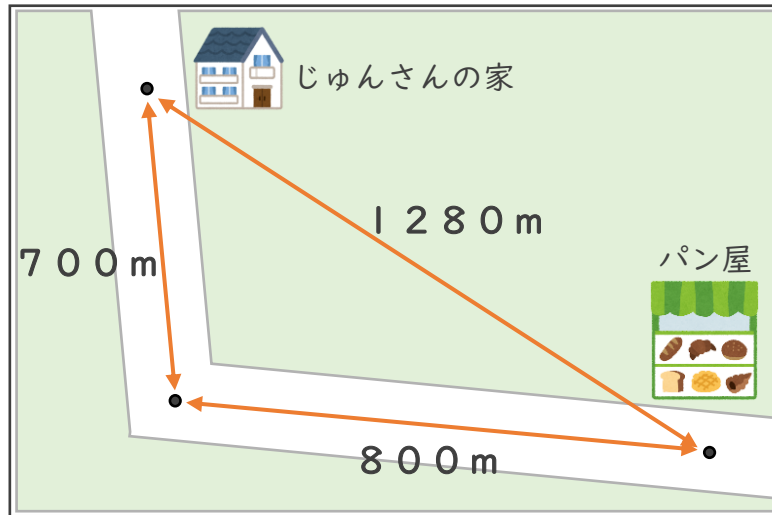
16

めざせ80点!



名まえ

- ・ じゅんさんは家からパン屋まで買いものに行きます。  
次の問いに答えましょう。(式・答え 各20点)



- ① 家からパン屋までのきよりは、何mですか。また、何km何mですか。

答え ( 1280 m ) ・ ( 1 km 280 m )

- ② 家からパン屋までの道のりは、何mですか。また、何km何mですか。

式:  $700 + 800 \text{ m} = 1500 \text{ m}$

答え ( 1500 m ) ・ ( 1 km 500 m )