



# 長いものの長さの はかり方と表し方 3

# 16

● 長さをはかる道具

めざせ80点!



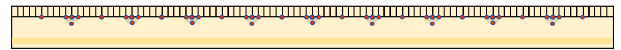
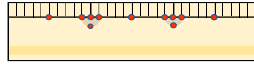
名まえ

1 次の長さをはかります。(ア)、(イ)、(ウ) のどれを使いますか。(各20点)

(ア) まきじゃく

(イ) 30cmものさし

(ウ) 1mものさし



① ドラムかんのまわりの長さ

答え ( )

② ろう下の長さ

答え ( )

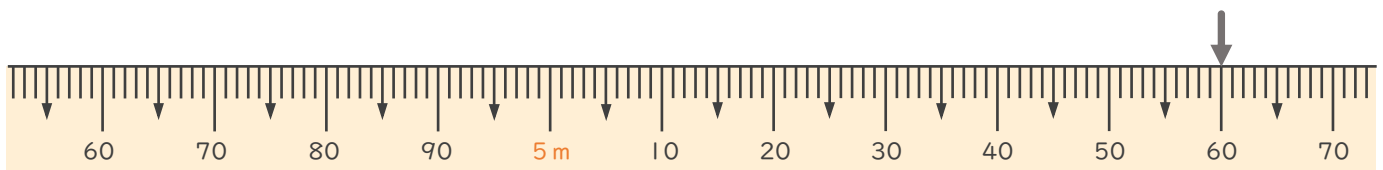
③ つくえの横の長さ

答え ( )

④ えん筆の長さ

答え ( )

2 次のまきじゃくで、↓のめもりが表している長さを読み取りましよう。(20点)



答え ( )




# 長いものの長さの はかり方と表し方 3

● 長さをはかる道具

# 16

めざせ80点!



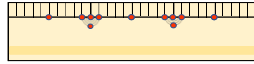
名まえ

1 次の長さをはかります。①、②、③ のどれを使いますか。(各20点)

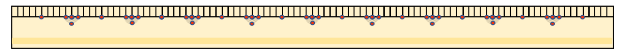
① まきじゃく



② 30cmものさし



③ 1mものさし



① ドラムかんのまわりの長さ

答え ( ① )

② ろう下の長さ

答え ( ① )

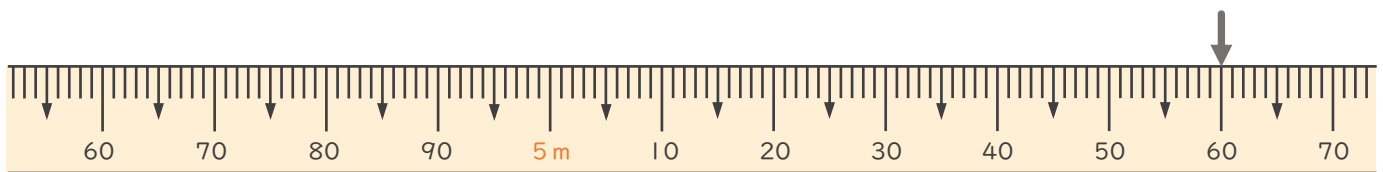
③ つくえの横の長さ

答え ( ③ )

④ えん筆の長さ

答え ( ② )

2 次のまきじゃくで、↓のめもりが表している長さを読み取りましよう。(20点)



答え ( 5m60cm )

