



分数 8

● 1より大きい分数を数直線に表す

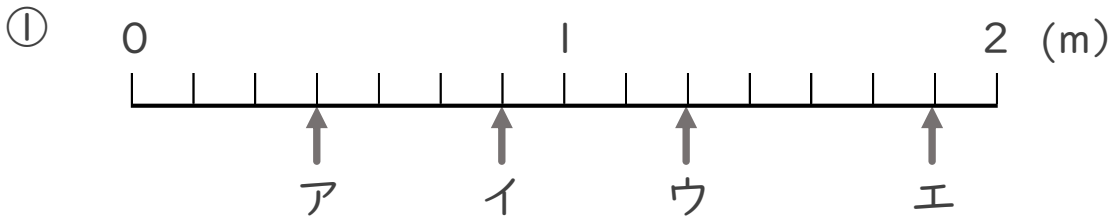
16

目指せ80点!

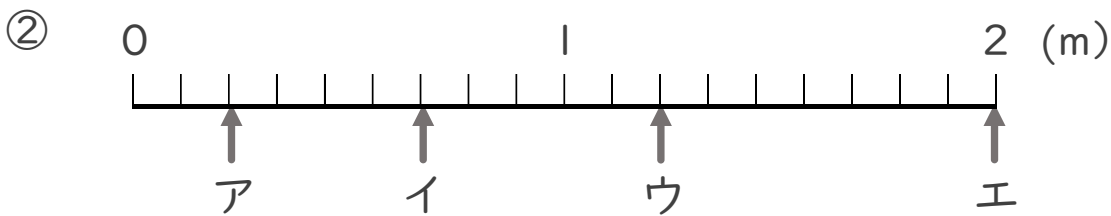


名まえ _____

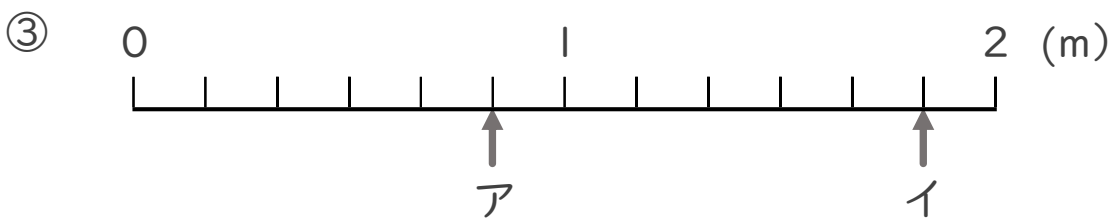
・ ア～エのめもりが表す長さは、それぞれ何mですか。 (各10点)



答え ア $\frac{3}{7}$ m イ $\frac{6}{7}$ m ウ $\frac{9}{7}$ m エ $\frac{13}{7}$ m



答え ア $\frac{2}{9}$ m イ $\frac{6}{9}$ m ウ $\frac{11}{9}$ m エ 2 m



答え ア $\frac{5}{6}$ m イ $\frac{11}{6}$ m