



分数 7

1より小さい分数を
数直線に表す

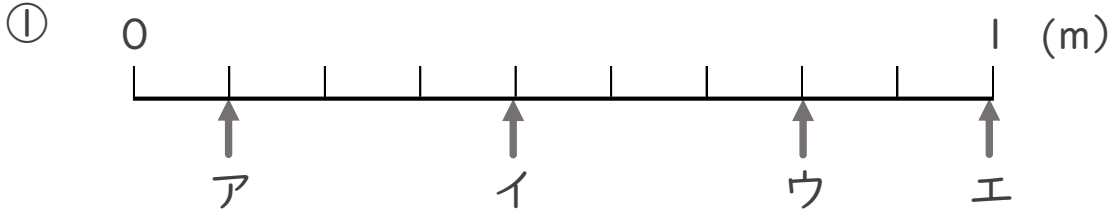


目指せ90点!

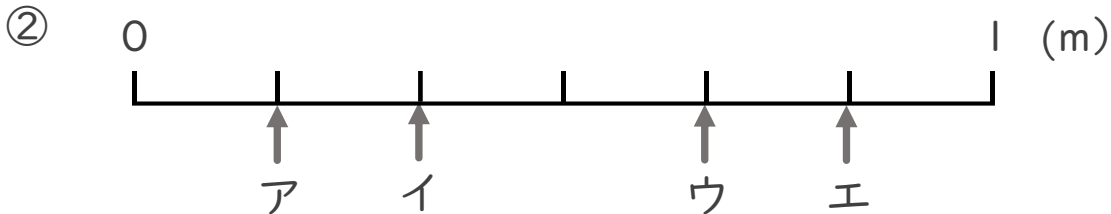


名まえ _____

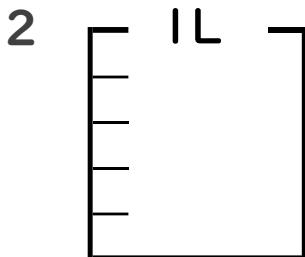
1 ア～エのめもりが表す長さは、それぞれ何mですか。(各10点)



答え ア イ ウ エ
 _____ m _____ m _____ m _____ m



答え ア イ ウ エ
 _____ m _____ m _____ m _____ m



① $\frac{1}{5}$ Lの4こ分だけ色をぬりましょう。

② 色をぬったところのかさは何Lですか。 _____ L

(各10点)



分数 7

● 1より小さい分数を数直線に表す

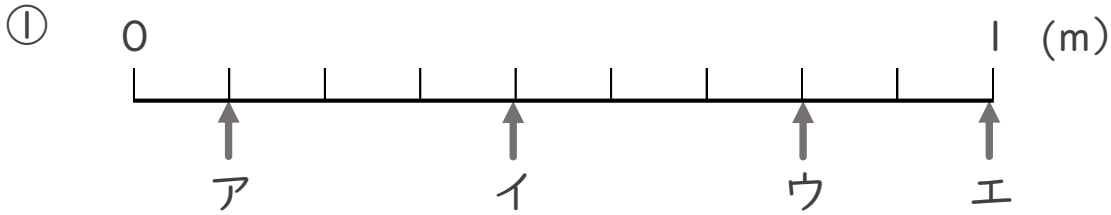


目指せ90点!

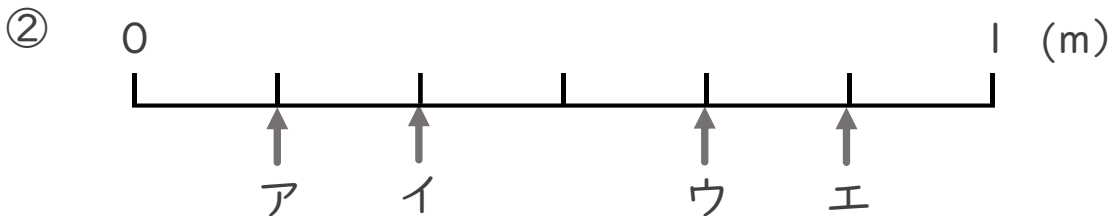


名まえ _____

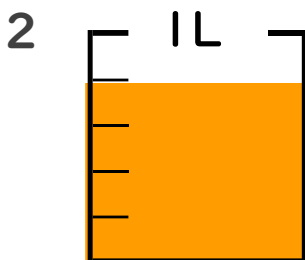
1 ア～エのめもりが表す長さは、それぞれ何mですか。(各10点)



答え ア $\frac{1}{9}$ m イ $\frac{4}{9}$ m ウ $\frac{7}{9}$ m エ 1 m



答え ア $\frac{1}{6}$ m イ $\frac{2}{6}$ m ウ $\frac{4}{6}$ m エ $\frac{5}{6}$ m



① $\frac{1}{5}$ Lの4こ分だけ色をぬりましょう。

② 色をぬったところのかさは何Lですか。 $\frac{4}{5}$ L

(各10点)