




# 大きい数のしくみ 9

● 1万の位の数直線



めざせ90点!

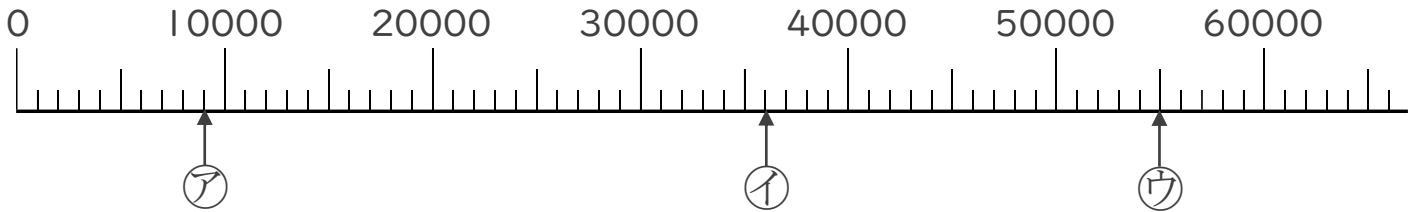


名まえ \_\_\_\_\_

1 ㉠～㉣のめもりが表している数を〔 〕に書きましょう。

(各14点)

①

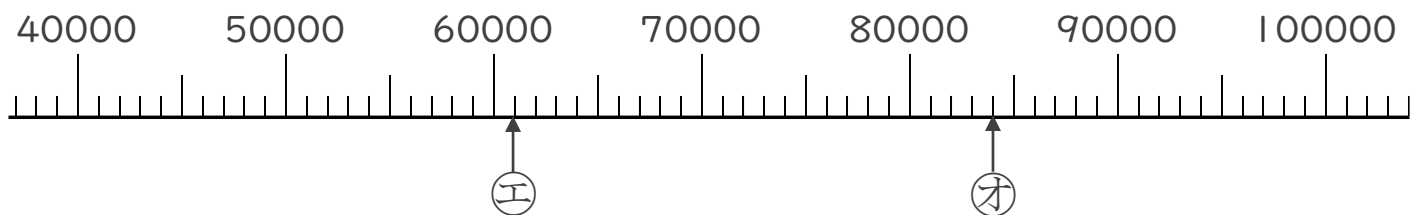


〔                    〕

〔                    〕

〔                    〕

②

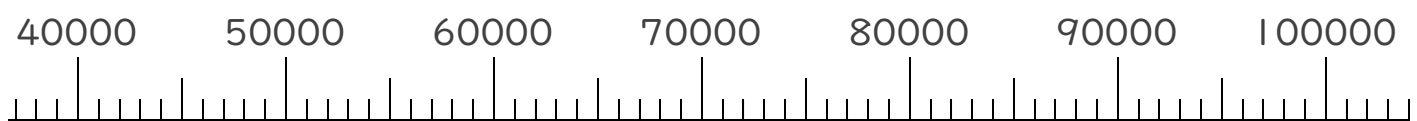


〔                    〕

〔                    〕

2 次の数を表すめもりに、↑を書きましょう。(各10点)

- ① 55000    ② 69000    ③ 98000






# 大きい数のしくみ 9

● 1万の位の数直線



めざせ90点!

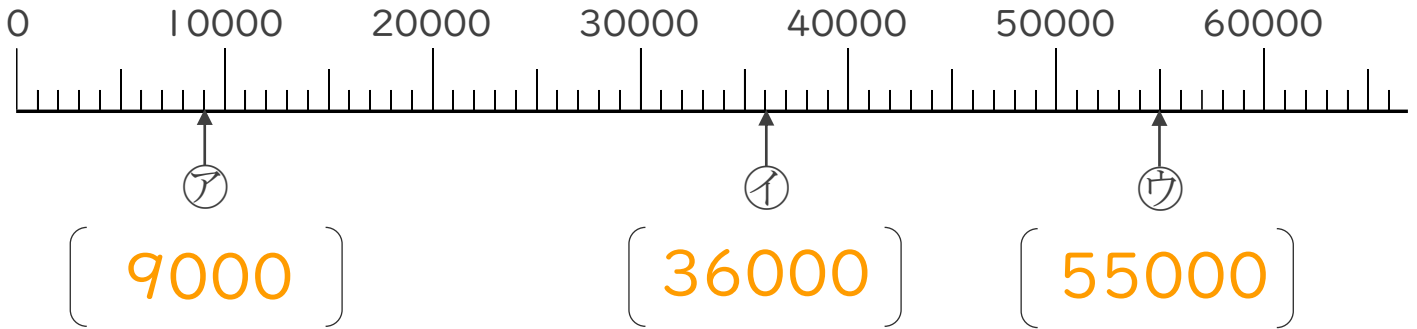


名まえ \_\_\_\_\_

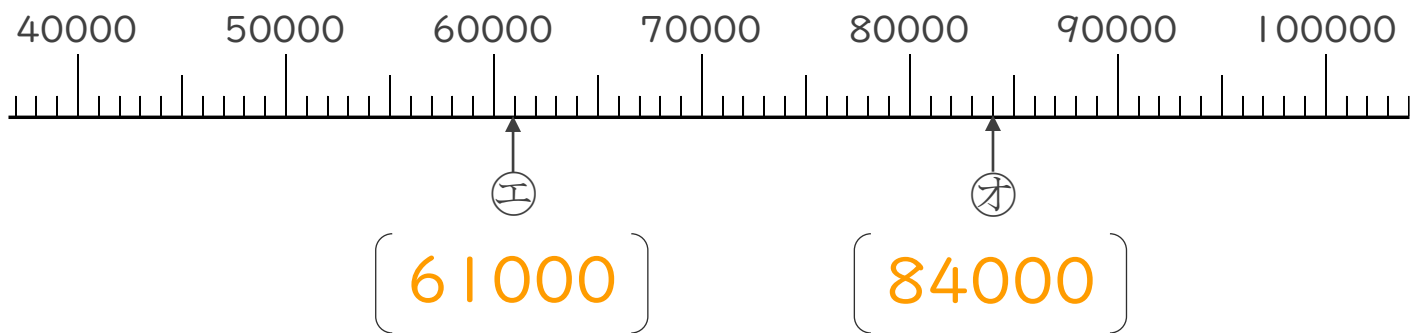
1 ㉠~㉣のめもりが表している数を〔 〕に書きましょう。

(各14点)

①



②



2 次の数を表すめもりに、↑を書きましょう。(各10点)

- ① 55000    ② 69000    ③ 98000

