


かけ算の筆算 32

◎ 3けた × 何十のかけ算

16

目指せ75点!



名まえ


・筆算で計算しましょう。(各25点)

① 435×60

③ 307×82

② 291×20

④ 406×39




かけ算の筆算 32

◎ 3けた × 何十のかけ算

16

目指せ75点!



名まえ _____

・筆算で計算しましょう。(各25点)

① 435×60

		4	3	5
	×		6	0
<hr/>				
2	6 ²	1 ³	0	0

③ 307×82

		3	0	7
	×		8	2
<hr/>				
		6	1 ¹	4
2	4	5 ⁵	6	
<hr/>				
2	5 ¹	1	7	4

② 291×20

	2	9	1
×		2	0
<hr/>			
5 ¹	8	2	0

④ 406×39

		4	0	6	
	×		3	9	
<hr/>					
		3	6	5 ⁵	4
1	2	1 ¹	8		
<hr/>					
1	5	8 ¹	3	4	