



たし算と
ひき算の筆算 Ⅱ

● 3けたのひき算
(くり下がりがり)

16

目指せ90点!



名まえ



・ 次の計算を筆算でしましょう。 (①・②各10点/③~⑥各20点)

$$\begin{array}{r} \textcircled{1} \quad 747 \\ - 216 \\ \hline \end{array}$$

$$\begin{array}{r} \textcircled{2} \quad 931 \\ - 327 \\ \hline \end{array}$$


$$\textcircled{3} \quad 628 - 143$$

$$\textcircled{4} \quad 770 - 454$$



$$\textcircled{5} \quad 866 - 103$$

$$\textcircled{6} \quad 713 - 472$$





たし算と
ひき算の筆算 11

● 3けたのひき算
(くり下がりがりあり)

16

目指せ90点!



名まえ

・ 次の計算を筆算でしましょう。 (①・②各10点/③~⑥各20点)

$$\begin{array}{r} \textcircled{1} \quad 747 \\ - 216 \\ \hline 531 \end{array}$$

$$\begin{array}{r} \textcircled{2} \quad 931 \\ - 327 \\ \hline 604 \end{array}$$

$$\textcircled{3} \quad 628 - 143$$

	5	10	
	6	2	8
-	1	4	3
	4	8	5

$$\textcircled{4} \quad 770 - 454$$

	6	10	
	7	7	0
-	4	5	4
	3	1	6

$$\textcircled{5} \quad 866 - 103$$

	8	6	6
-	1	0	3
	7	6	3

$$\textcircled{6} \quad 713 - 472$$

	6	10	
	7	1	3
-	4	7	2
	2	4	1