




たし算と
ひき算の筆算 13

● 3けた-1けた
(くり下がりがりあり)

16

目指せ90点!



名まえ _____



・ 次の計算を筆算でしましょう。 (①・②各10点/③~⑥各20点)

①
$$\begin{array}{r} 764 \\ - 73 \\ \hline \end{array}$$

②
$$\begin{array}{r} 432 \\ - 8 \\ \hline \end{array}$$


③ $918 - 43$

④ $874 - 6$



⑤ $396 - 9$

⑥ $614 - 5$





たし算と
ひき算の筆算 13

◎ 3けた-1けた
(くり下がりがり)

16

目指せ90点!



名まえ _____

・ 次の計算を筆算でしましょう。(①・②各10点/③~⑥各20点)

$$\begin{array}{r} \text{①} \quad \begin{array}{r} 6 10 \\ \cancel{7} 6 4 \\ - 7 3 \\ \hline 6 9 1 \end{array} \end{array}$$

$$\begin{array}{r} \text{②} \quad \begin{array}{r} 2 10 \\ 4 \cancel{3} 2 \\ - 8 \\ \hline 4 2 4 \end{array} \end{array}$$

③ 918 - 43

	8	10	
	9	1	8
-		4	3
<hr/>			
	8	7	5

④ 874 - 6

		6	10
	8	7	4
-			6
<hr/>			
	8	6	8

⑤ 396 - 9

		8	10
	3	9	6
-			9
<hr/>			
	3	8	7

⑥ 614 - 5

		0	10
	6	1	4
-			5
<hr/>			
	6	0	9

