




たし算と
ひき算の筆算 12

16

◎ 3けた-2けた
(くり下がりがりあり)

目指せ90点!



名まえ



・ 次の計算を筆算でしましょう。 (①・②各10点/③~⑥各20点)

①
$$\begin{array}{r} 526 \\ - 255 \\ \hline \end{array}$$

②
$$\begin{array}{r} 891 \\ - 77 \\ \hline \end{array}$$



③ $717 - 34$

④ $682 - 376$



⑤ $834 - 84$

⑥ $404 - 172$






たし算と
ひき算の筆算 12

● 3けた-2けた
(くり下がりあり)

16

目指せ90点!



名まえ

・次の計算を筆算でしましょう。

(①・②各10点/③~⑥各20点)

$$\begin{array}{r} 4 \quad 10 \\ \textcircled{1} \quad \cancel{5} \quad 2 \quad 6 \\ - \quad \quad 5 \quad 5 \\ \hline 4 \quad 7 \quad 1 \end{array}$$

$$\begin{array}{r} 8 \quad 10 \\ \textcircled{2} \quad \quad 8 \quad \cancel{9} \quad 1 \\ - \quad \quad \quad 7 \quad 7 \\ \hline 8 \quad 1 \quad 4 \end{array}$$

③ 717 - 34

	6	10	
	7	1	7
-		3	4
	6	8	3

④ 682 - 376

		7	10
	6	8	2
-	3	7	6
	3	0	6

⑤ 834 - 84

	7	10	
	8	3	4
-		8	4
	7	5	0

⑥ 404 - 172

	3	10	
	4	0	4
-	1	7	2
	2	3	2