



□を使った式 6

● □ × 数, 数 × □ の
□ をもとめる計算

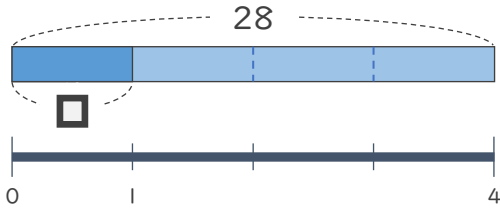


日にち： 月 日

名まえ _____

・ □ にあてはまる数をもとめましょう。(うすい字はなぞりましょう。)

①

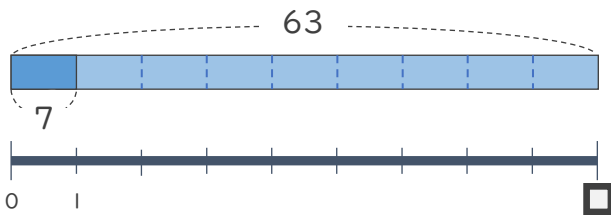


$$\square \times 4 = 28$$

$$\square = 28 \div 4$$

$$\square =$$

②



$$7 \times \square = 63$$

$$\square = 63 \div 7$$

$$\square =$$



□を使った式 6

● □ × 数, 数 × □ の
□ をもとめる計算

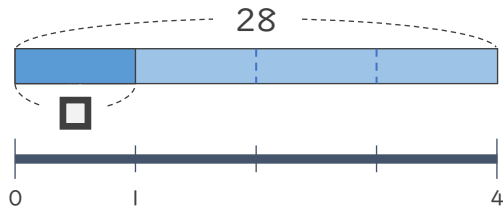


日にち： 月 日

名まえ _____

- にあてはまる数をもとめましょう。(うすい字はなぞりましょう。)

①

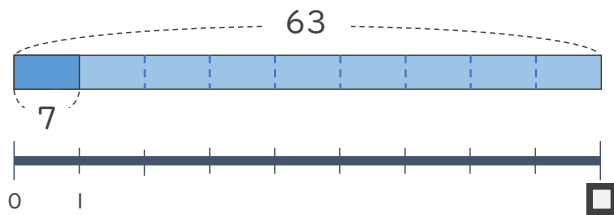


$$\square \times 4 = 28$$

$$\square = 28 \div 4$$

$$\square = 7$$

②



$$7 \times \square = 63$$

$$\square = 63 \div 7$$

$$\square = 9$$

