



# □を使った式 9

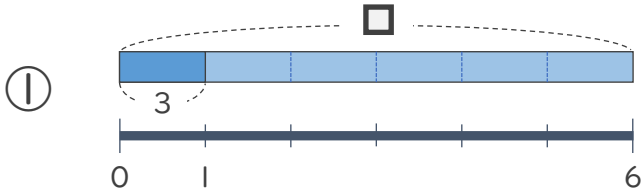
● □ ÷ 数の  
□ をもとめる計算



日にち：        月        日

名まえ \_\_\_\_\_

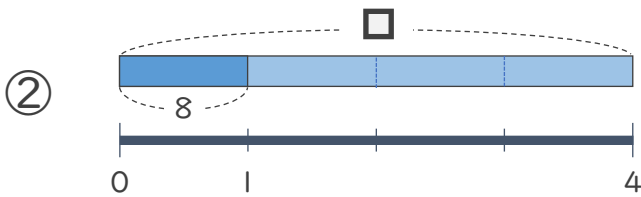
・ □ にあてはまる数をもとめましょう。(うすい字はなぞりましょう)



$$\square \div 6 = 3$$

$$\square = 3 \times 6$$

$$\square = 18$$



$$\square \div 4 = 8$$

$$\square =$$

$$\square =$$



## □を使った式 9

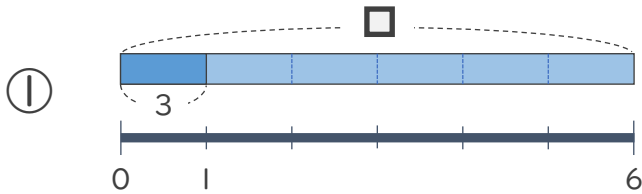
● □ ÷ 数の  
□ をもとめる計算



日にち：        月        日

名まえ \_\_\_\_\_

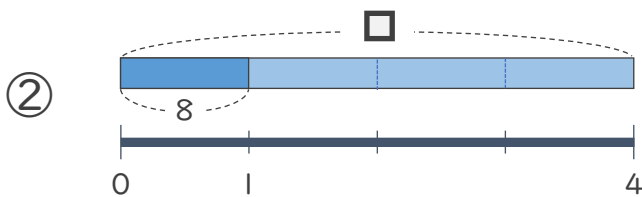
- にあてはまる数をもとめましょう。(うすい字はなぞりましょう)



$$\square \div 6 = 3$$

$$\square = 3 \times 6$$

$$\square = 18$$



$$\square \div 4 = 8$$

$$\square = 8 \times 4$$

$$\square = 32$$

