



## □を使った式 2

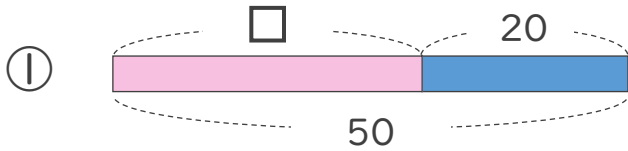
● □+数, 数+□ の  
□をもとめる計算



日にち：        月        日

名まえ \_\_\_\_\_

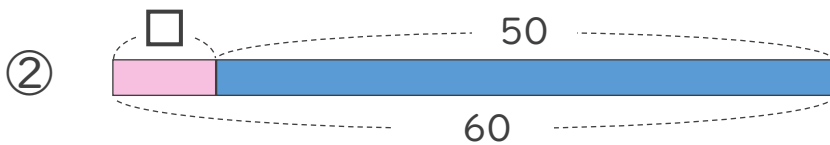
- にあてはまる数をもとめましょう。(うすい字はなぞりましょう)



$$\square + 20 = 50$$

$$\square = 50 - 20$$

$$\square =$$



$$\square + 50 = 60$$

$$\square =$$

$$\square =$$





## □を使った式 2

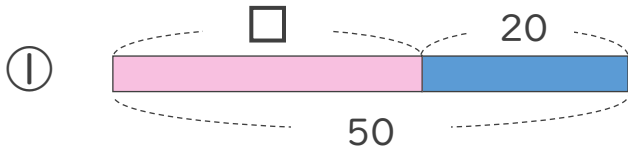
● □+数, 数+□ の  
□をもとめる計算



日にち：        月        日

名まえ \_\_\_\_\_

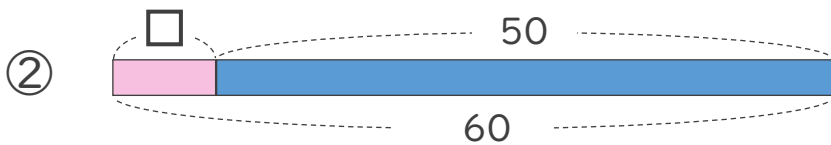
- にあてはまる数をもとめましょう。(うすい字はなぞりましょう)



$$\square + 20 = 50$$

$$\square = 50 - 20$$

$$\square = 30$$



$$\square + 50 = 60$$

$$\square = 60 - 50$$

$$\square = 10$$

