



# □を使った式 4

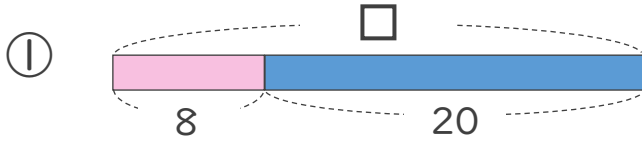
● □-数の□を  
もとめる計算



日にち：        月        日

名まえ \_\_\_\_\_

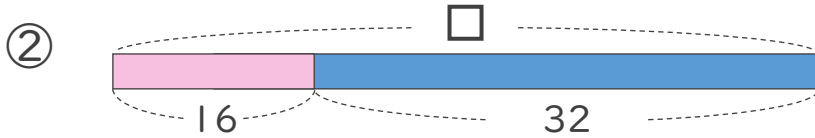
・ □にあてはまる数をもとめましょう。(うすい字はなぞりましょう。)



$$\square - 8 = 20$$

$$\square = 20 + 8$$

$$\square =$$



$$\square - 16 = 32$$

$$\square =$$

$$\square =$$



## □を使った式 4

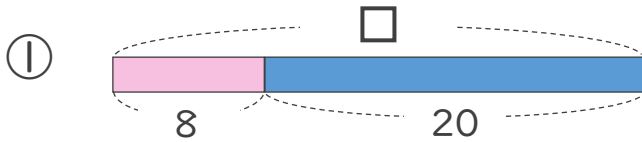
● □-数の□を  
もとめる計算



日にち：            月            日

名まえ \_\_\_\_\_

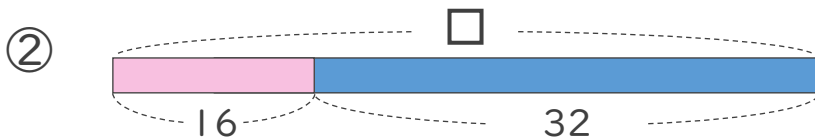
・ □にあてはまる数をもとめましょう。（うすい字はなぞりましょう。）



$$\square - 8 = 20$$

$$\square = 20 + 8$$

$$\square = 28$$



$$\square - 16 = 32$$

$$\square = 32 + 16$$

$$\square = 48$$

