



時こくと時間の
もとめかた 10



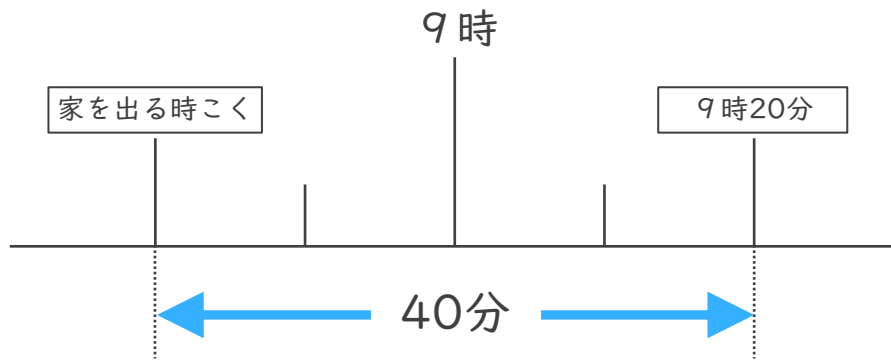
○分前の時こく (数直線)

日にち： 月 日

名まえ _____

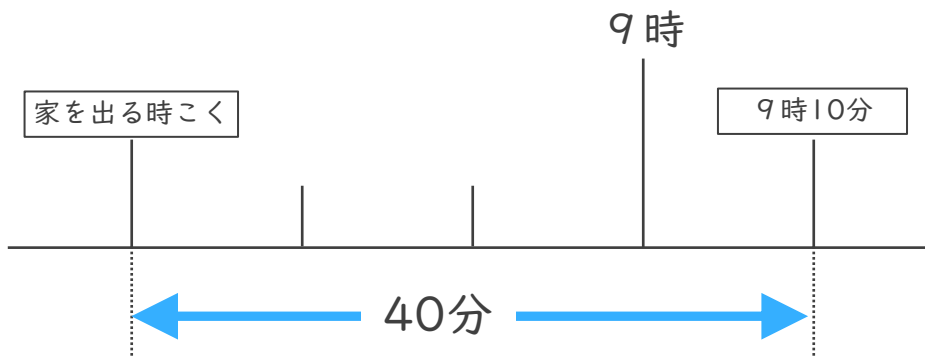
・ 次の問いに答えましょう。(うすい字はなぞりましょう。)

- ① まきさんの家から学校まで40分かかります。9時20分までに学校に着くためには、おそくとも何時何分までに家を出なければならないでしょうか。



答え (8時40分)

- ② けんさんの家から病院まで40分かかります。9時10分までに病院に着くためには、おそくとも何時何分までに家を出なければならないでしょうか。



答え ()



時こくと時間の
もとめかた 10



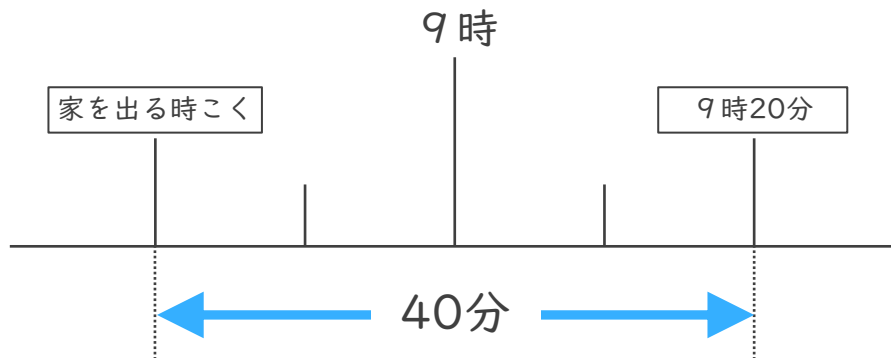
○分前の時こく (数直線)

日にち： 月 日

名まえ _____

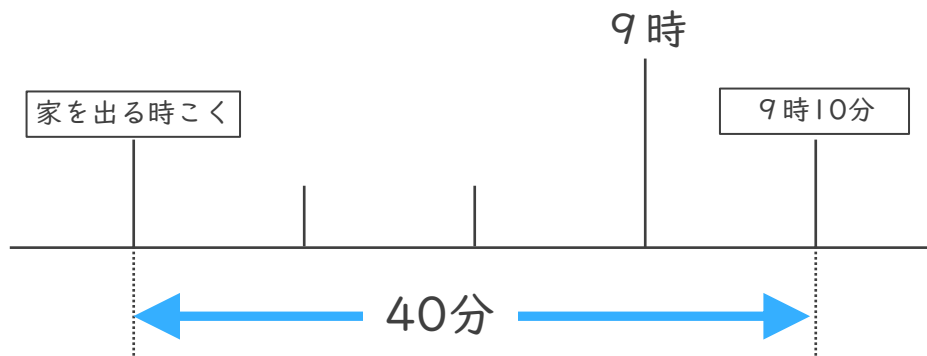
・ 次の問いに答えましょう。(うすい字はなぞりましょう。)

- ① まきさんの家から学校まで40分かかります。9時20分までに学校に着くためには、おそくとも何時何分までに家を出なければならないでしょうか。



答え (8時40分)

- ② けんさんの家から病院まで40分かかります。9時10分までに病院に着くためには、おそくとも何時何分までに家を出なければならないでしょうか。



答え (8時30分)