



時こくと時間の  
もとめかた 13



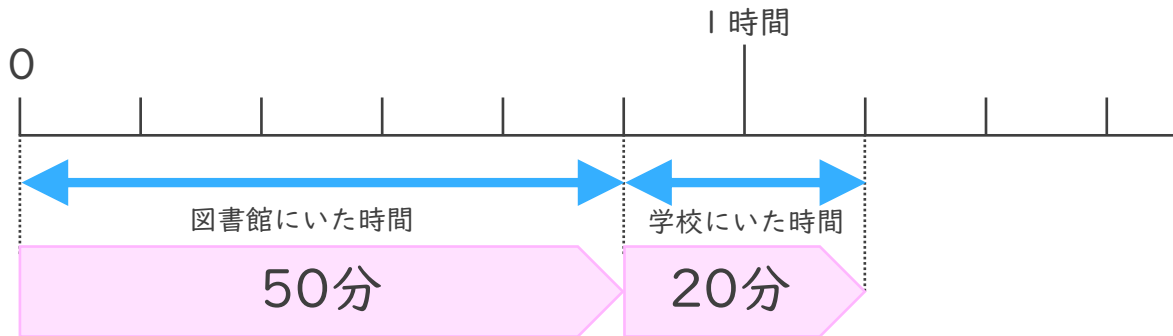
○分+△分 (時間の和)

日にち：        月        日

名まえ \_\_\_\_\_

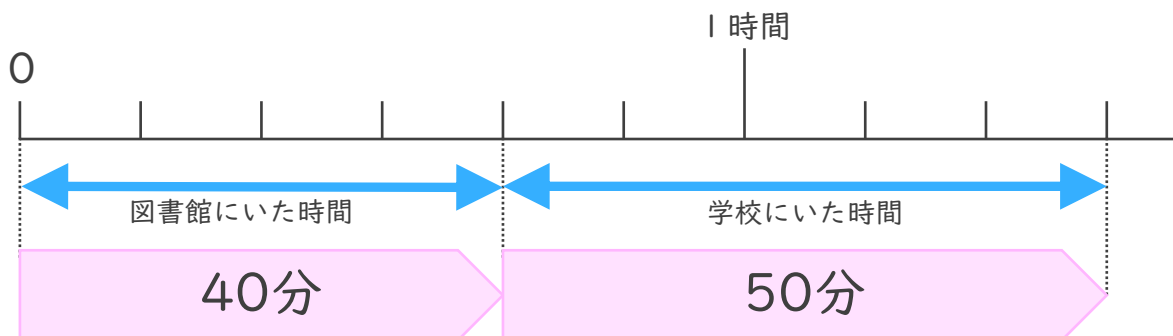
・ 次の問いに答えましょう。(うすい字はなぞりましょう。)

- ① 図書館としょかんにいた時間は50分、学校にいた時間は20分です。あわせて何時間何分ですか。



答え (                      時間                      分                      )

- ② 図書館にいた時間は40分、学校にいた時間は50分です。あわせて何時間何分ですか。



答え (                      )



時こくと時間の  
もとめかた 13



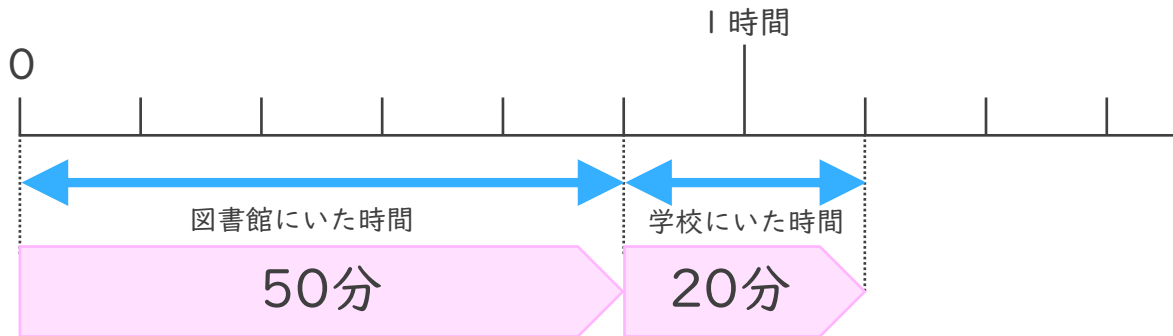
○分+△分 (時間の和)

日にち：            月            日

名まえ \_\_\_\_\_

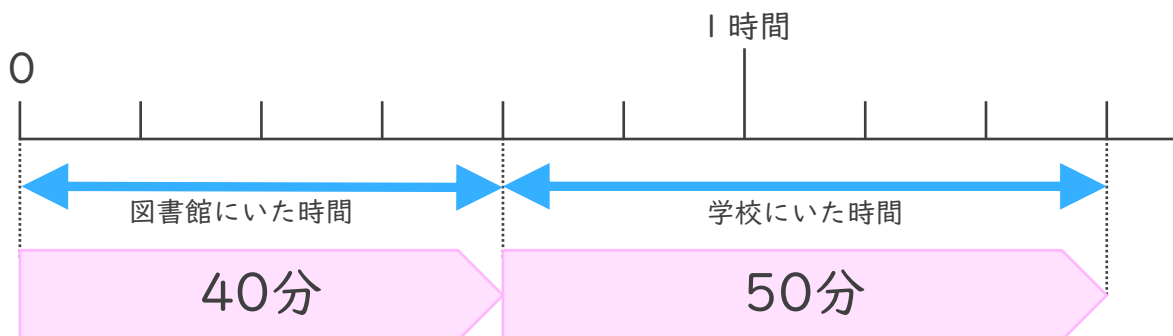
・ 次の問いに答えましょう。(うすい字はなぞりましょう。)

- ① 図書館としょかんにいた時間は50分、学校にいた時間は20分です。あわせて何時間何分ですか。



答え (            1 時間 1 0 分            )

- ② 図書館にいた時間は40分、学校にいた時間は50分です。あわせて何時間何分ですか。



答え (            1 時間 3 0 分            )

