



かけ算の筆算 18

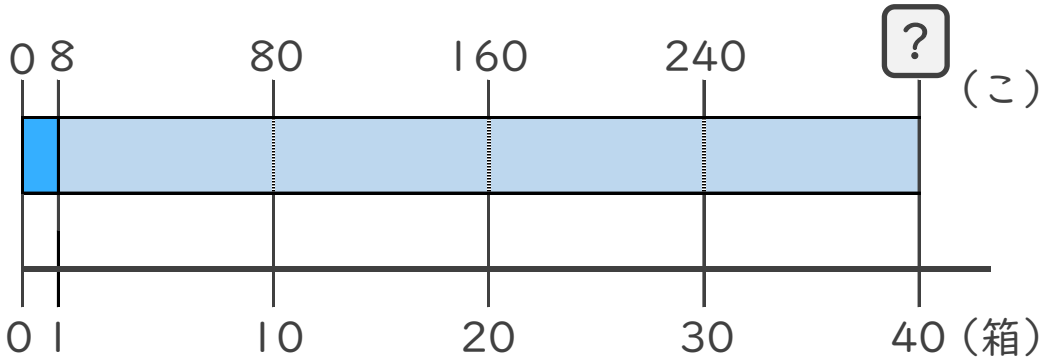
何十倍のかけ算とは



日にち： 月 日

名まえ _____

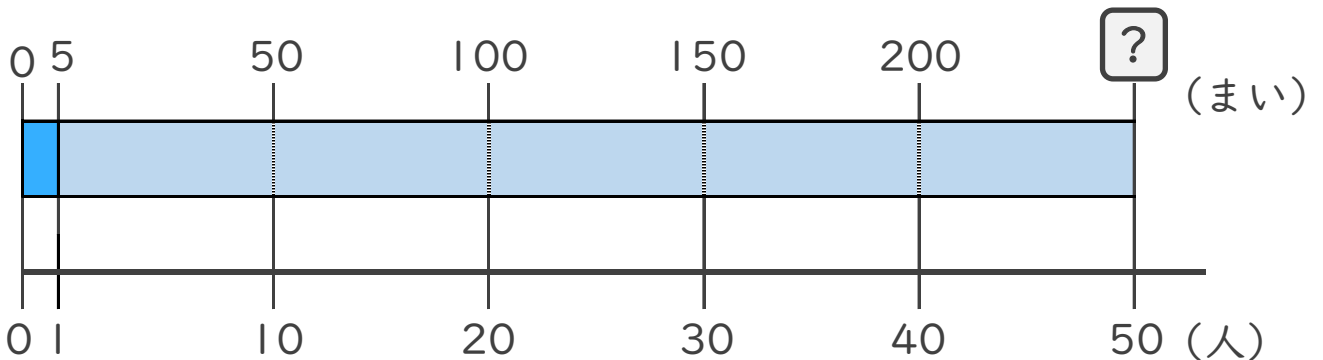
1 8こずつりんごが入っている箱が、40箱あります。
りんごは全部で何こ ありますか。



式：

答え： _____

2 クッキーをひとりに5まいずつ、50人に配ります。
クッキーは全部で何まい ありますか。



式：

答え： _____





かけ算の筆算 18

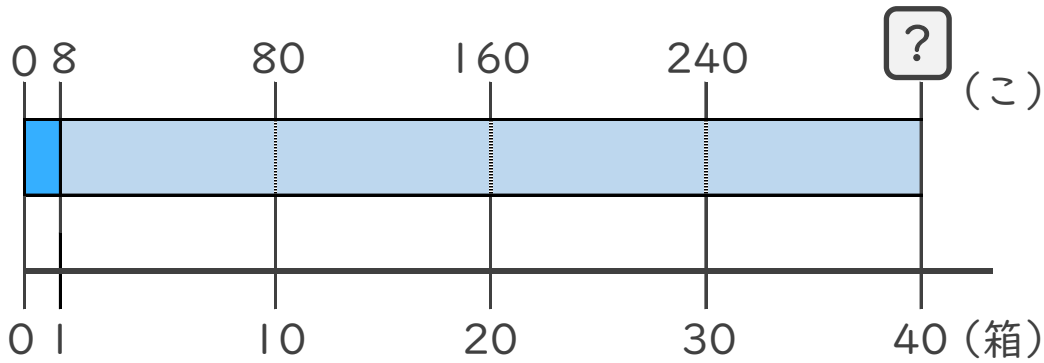
◎ 何十倍のかけ算とは

2

日にち： 月 日

名まえ _____

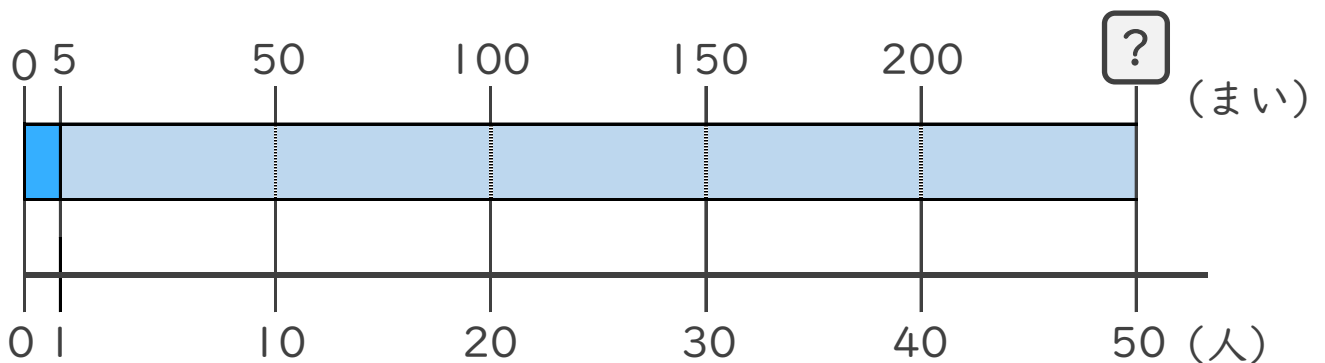
- 1 8こずつりんごが入っている箱が、40箱あります。
りんごは全部で何こ ありますか。



$$\text{式： } 8 \times 40 = 320$$

答え：320こ

- 2 クッキーをひとりに5まいずつ、50人に配ります。
クッキーは全部で何まい ありますか。



$$\text{式： } 5 \times 50 = 250$$

答え：250まい

