



大きい数のわり算 3

◎ 69まいの色紙を
3人でわける

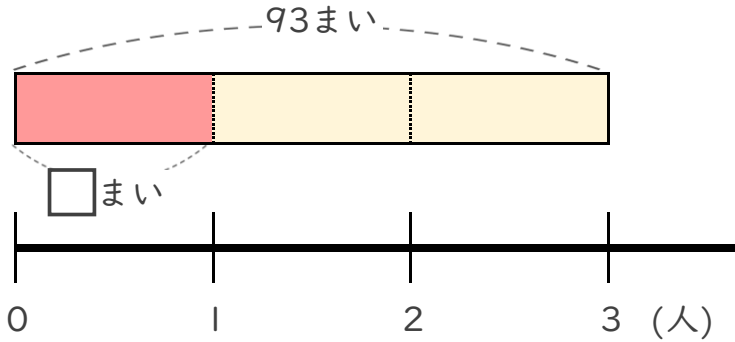


日にち： 月 日

名まえ _____

- ・ 93まいの色紙を、3人で同じ数ずつ分けます。
1人分は何まいになりますか。

(うすい字はなぞりましょう。)



- ① 計算の式を書きましょう。

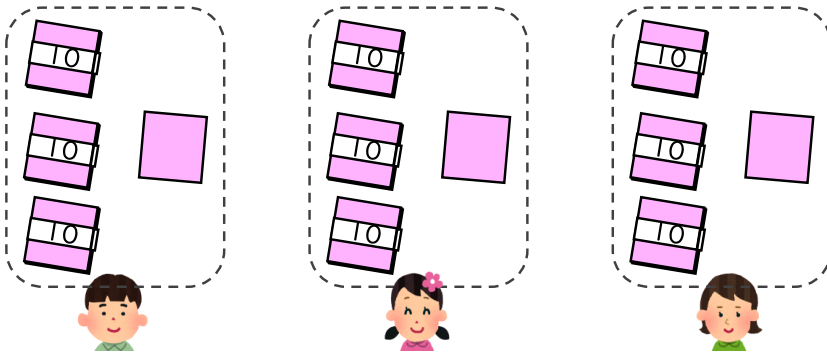
全部の
まい数

÷

分ける
人数

式 _____

- ② 下の図をもとに計算してみましょう。



全部の
まい数

÷

分ける
人数

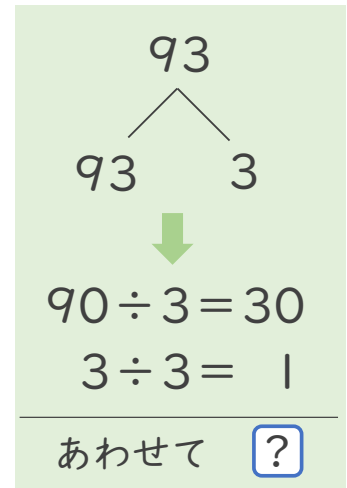
=

1人分の
まい数

式:

÷

=



答え _____



大きい数のわり算 3

◎ 69まいの色紙を
3人でわける

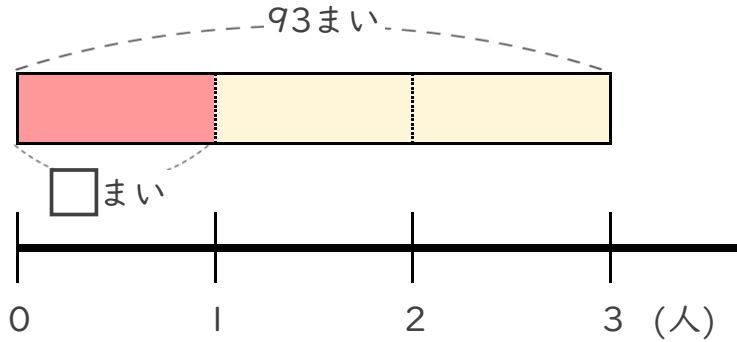


日にち： 月 日

名まえ _____

- ・ 93まいの色紙を、3人で同じ数ずつ分けます。
1人分は何まいになりますか。

(うすい字はなぞりましょう。)

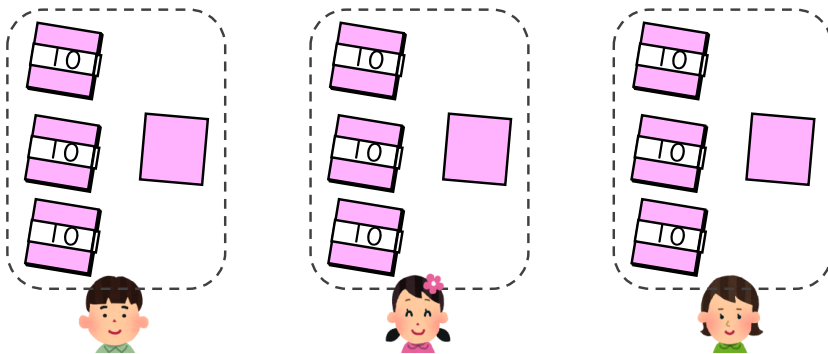


- ① 計算の式を書きましょう。

全部の まい数	÷	分ける 人数
------------	---	-----------

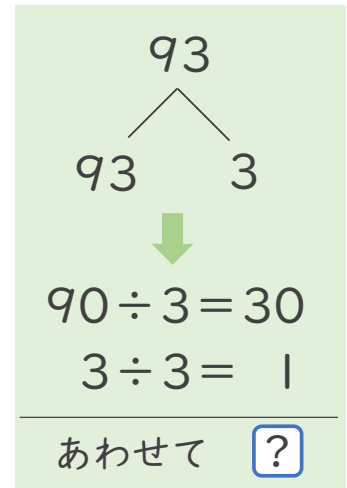
式 $93 \div 3$

- ② 下の図をもとに計算してみましょう。



全部の まい数	÷	分ける 人数	=	1人分の まい数
------------	---	-----------	---	-------------

式: $93 \div 3 = 31$



答え 31 まい