



時こくと時間の  
もとめかた 5

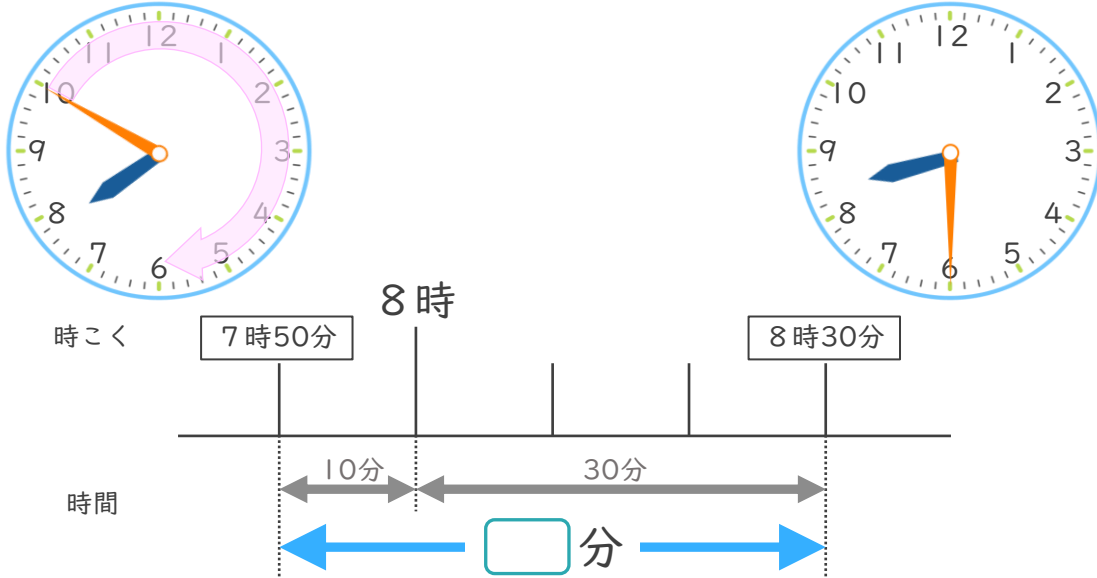
● かかった時間を  
もとめる (時計)



日にち：            月            日

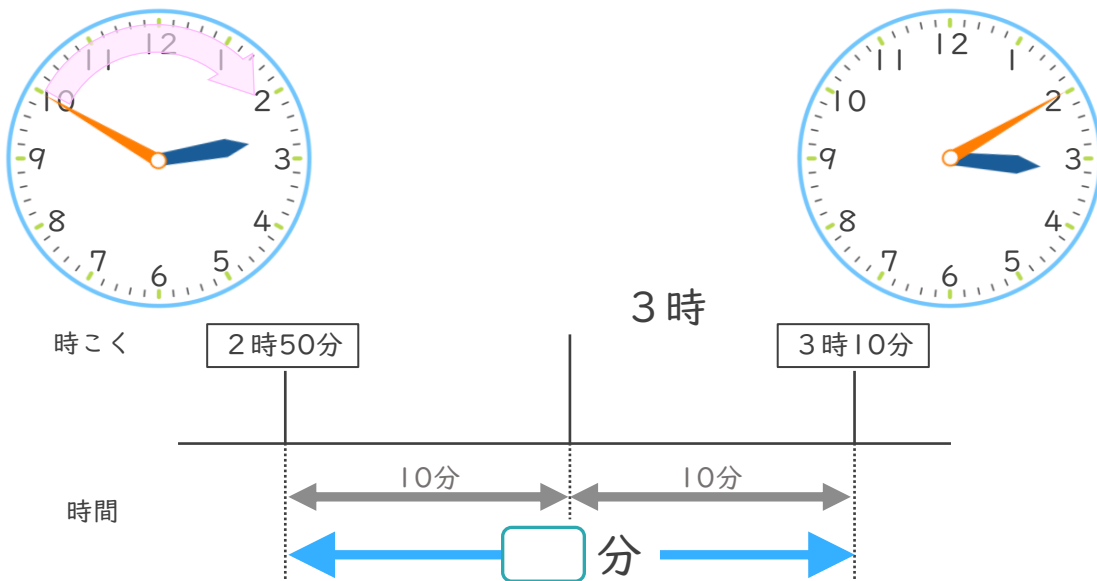
名まえ \_\_\_\_\_

- ① 学校を7時50分に出て、公園に8時30分に着きました。学校から公園まで、かかった時間は何分ですか。



答え (            )

- ② 駅を2時50分に出て、図書館に3時10分に着きました。駅から図書館まで、かかった時間は何分ですか。



答え (            )





時こくと時間の  
もとめかた 5

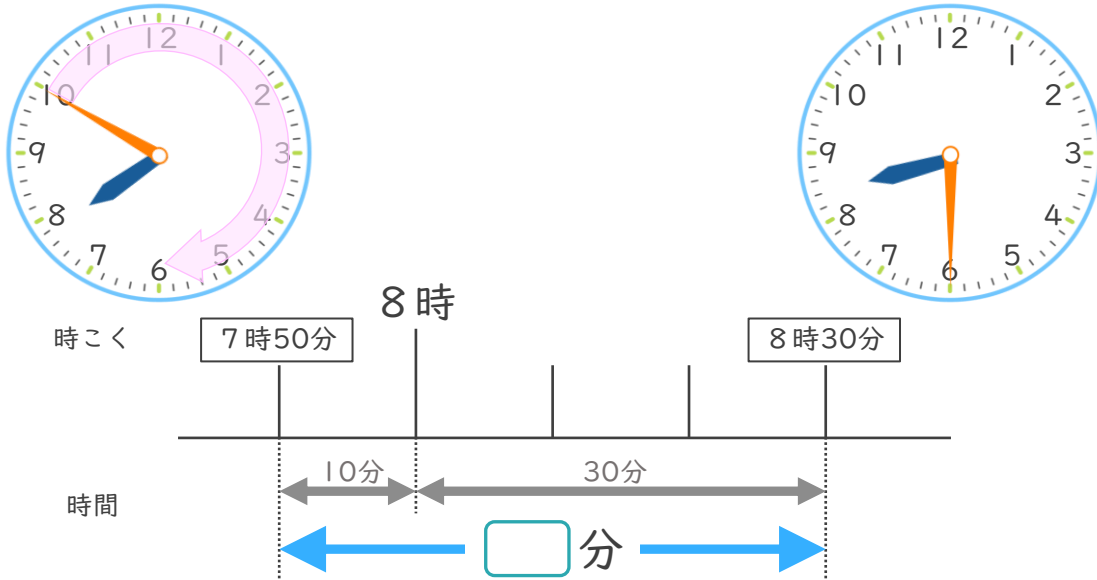
● かかった時間を  
もとめる (時計)



日にち：            月            日

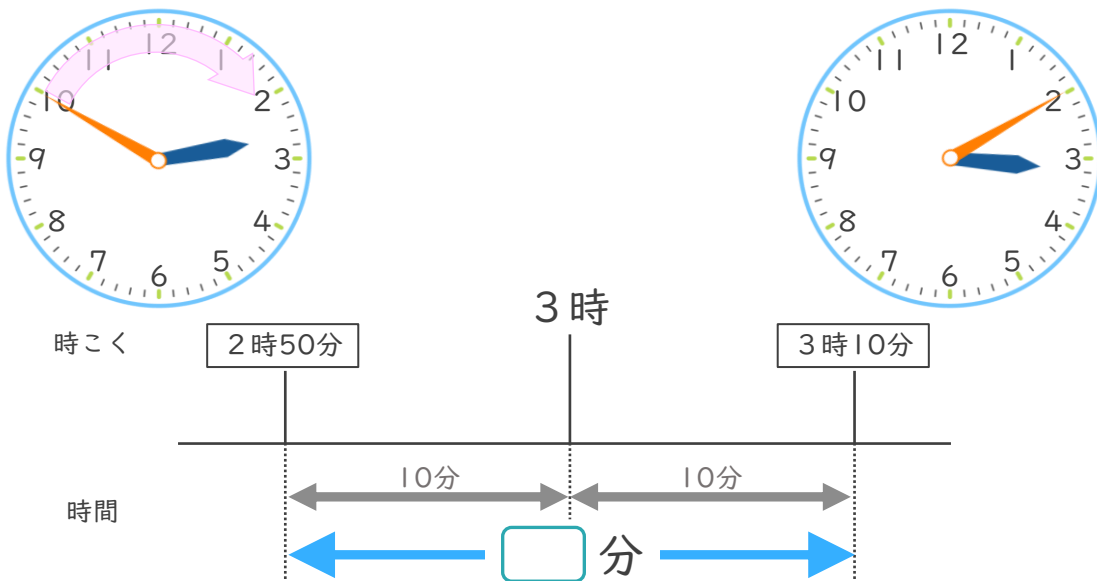
名まえ \_\_\_\_\_

- ① 学校を7時50分に出て、公園に8時30分に着きました。学校から公園まで、かかった時間は何分ですか。



答え (            40分            )

- ② 駅を2時50分に出て、図書館に3時10分に着きました。駅から図書館まで、かかった時間は何分ですか。



答え (            20分            )

