



長いものの長さの はかり方と表し方

まきじゃくの読み取り

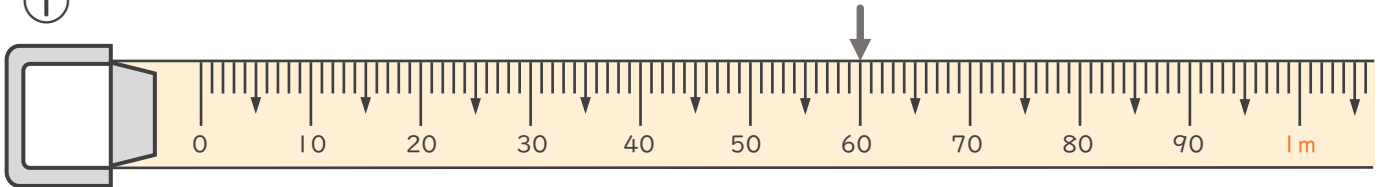
2

日にち： 月 日

名まえ _____

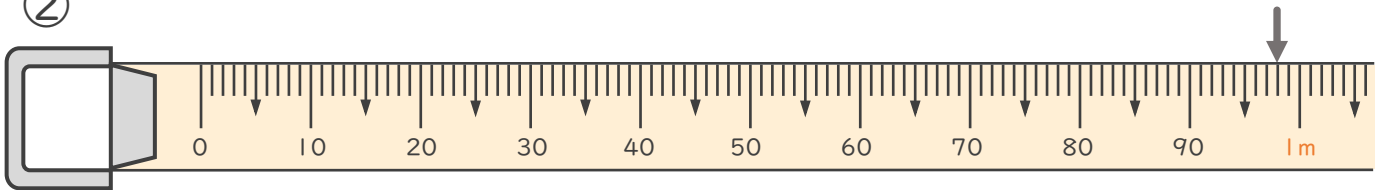
- 次のまきじゃくで、↓のメモリが表している長さを読み取りましょう。
(うすい字はなぞりましょう。)

①



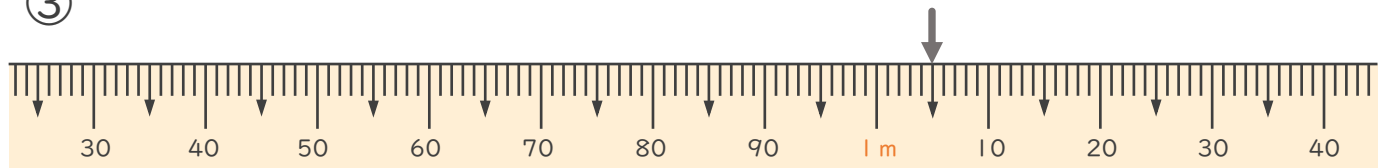
答え (60 cm)

②



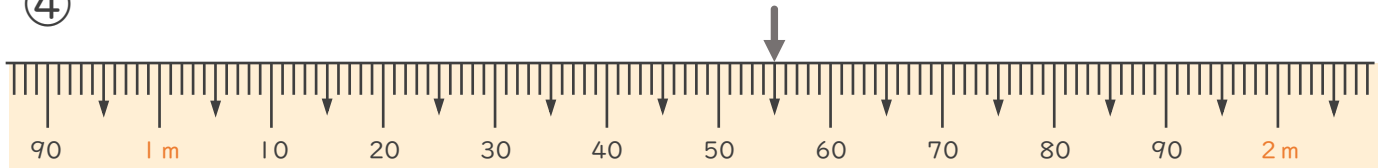
答え ()

③



答え ()

④



答え ()





長いものの長さの はかり方と表し方

まきじゃくの読み取り

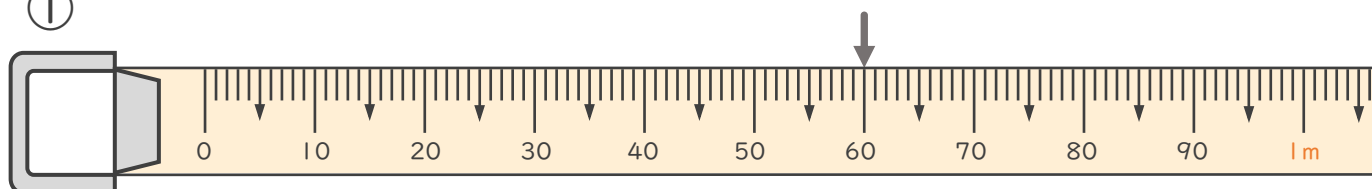
2

日にち： 月 日

名まえ _____

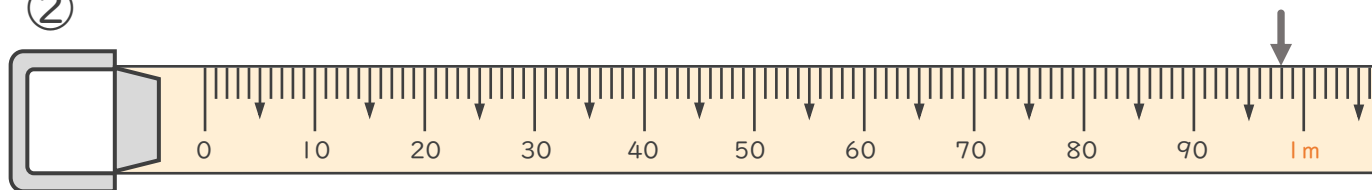
- 次のまきじゃくで、↓のめもりが表している長さを読み取りましょう。
(うすい字はなぞりましょう。)

①



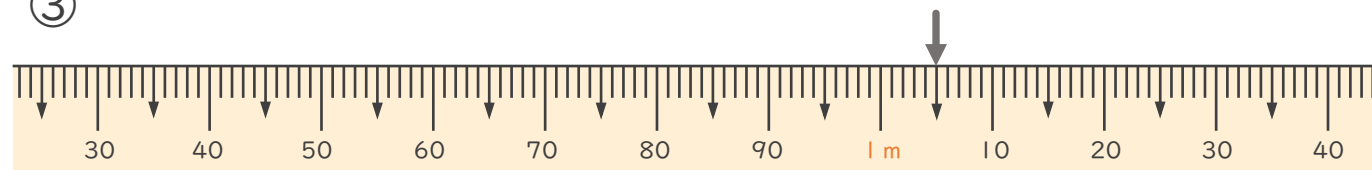
答え (60 cm)

②



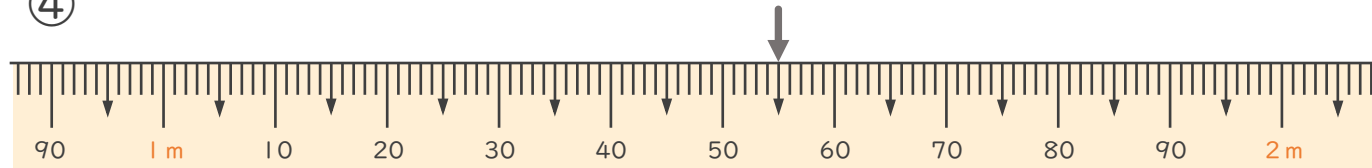
答え (98 cm)

③



答え (1 m 5 cm)

④



答え (1 m 55 cm)

