



長いものの長さの はかり方と表し方 2

● まきじゃくへの書きこみ



日にち： 月 日

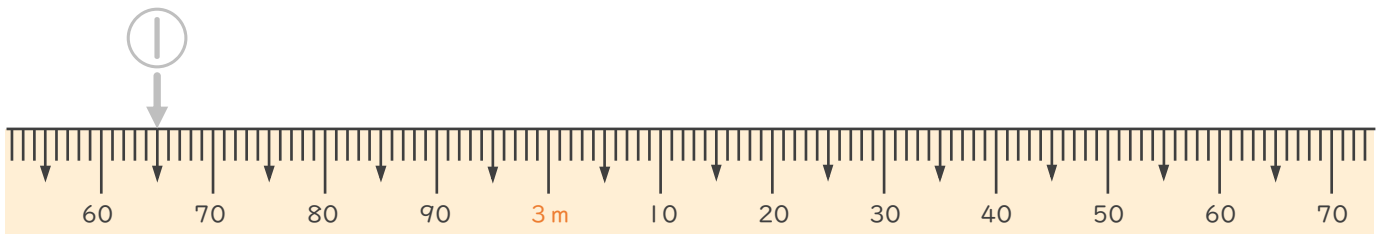
名まえ _____

1 次のまきじゃくで、①～③の長さを表すメモりに ↓ をかきましょう。
(うすい字はなぞりましょう。)

① 2 m 65 cm

② 2 m 84 cm

③ 3 m 5 cm

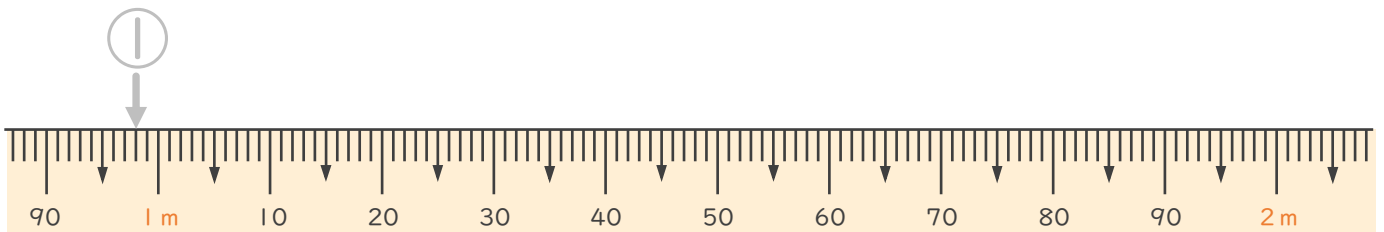


2 次のまきじゃくで、①～③の長さを表すメモりに ↓ をかきましょう。
(うすい字はなぞりましょう。)

① 98 cm

② 1 m 38 cm

③ 1 m 85 cm





長いものの長さの はかり方と表し方 2

● まきじゃくへの書きこみ



日にち： 月 日

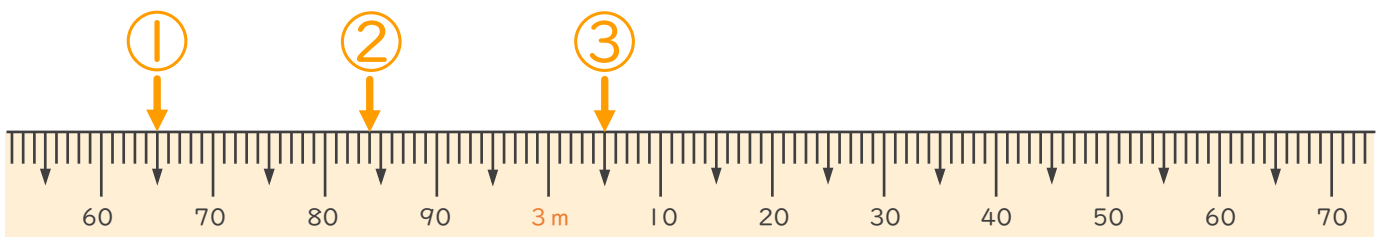
名まえ _____

1 次のまきじゃくで、①～③の長さを表すメモりに ↓ をかきましょう。
(うすい字はなぞりましょう。)

① 2 m 65 cm

② 2 m 84 cm

③ 3 m 5 cm



2 次のまきじゃくで、①～③の長さを表すメモりに ↓ をかきましょう。
(うすい字はなぞりましょう。)

① 98 cm

② 1 m 38 cm

③ 1 m 85 cm

