



## 円と球 6

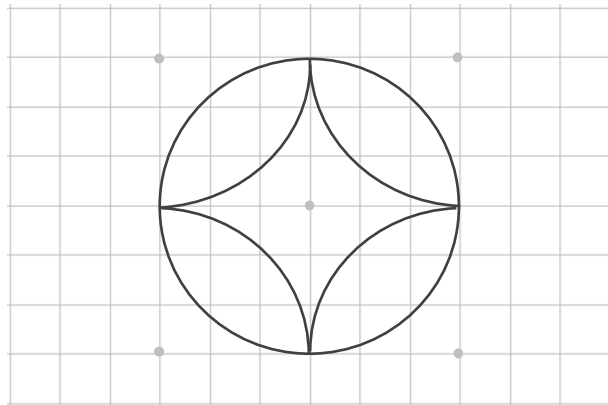
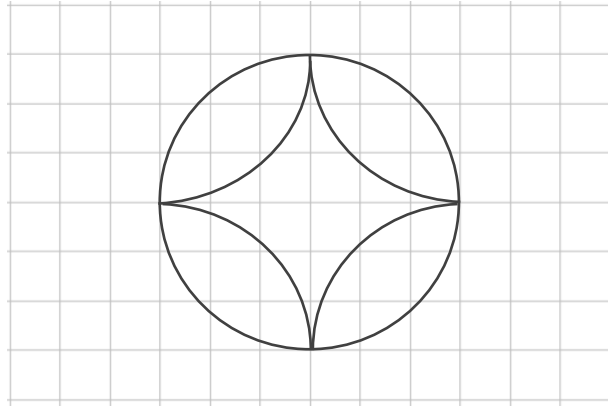
● コンパスを使った  
いろいろな作図



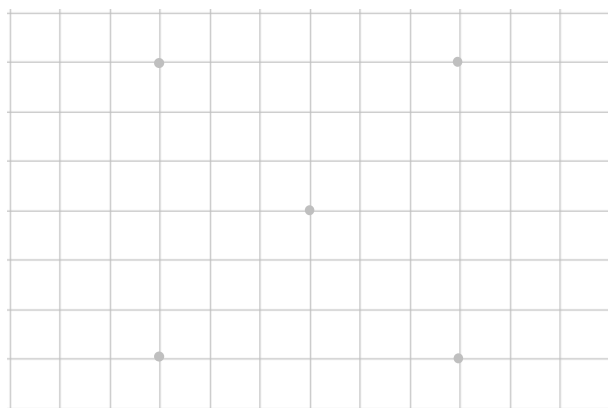
日にち：            月            日

名まえ \_\_\_\_\_

- ・ コンパスを使って、次のもようをかきましょう。  
(うすい字はなぞりましょう。)



① 円の中心を  
みつけるんだ！



② 円をかこう！





## 円と球 6

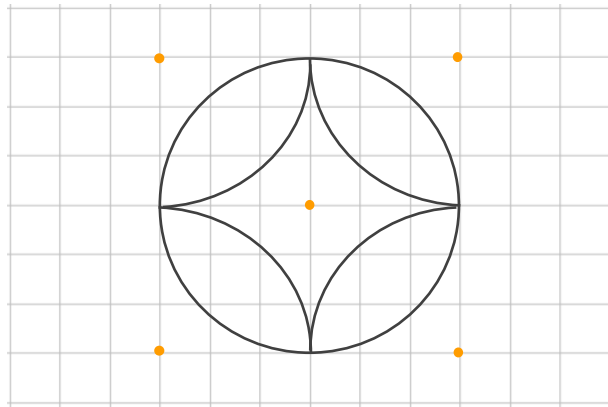
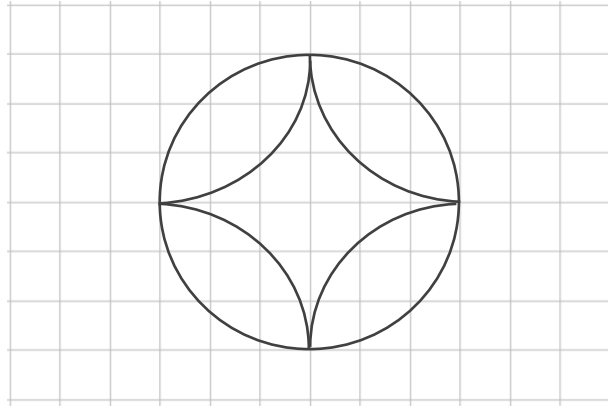
● コンパスを使った  
いろいろな作図



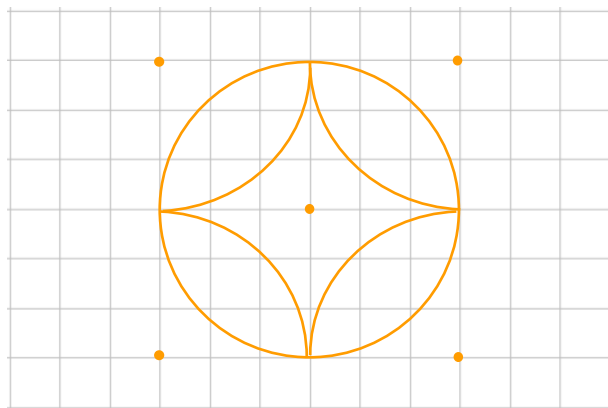
日にち：            月            日

名まえ \_\_\_\_\_

- ・ コンパスを使って、次のもようをかきましょう。  
(うすい字はなぞりましょう。)



① 円の中心を  
みつけるんだ！



② 円をかこう！

