



# 円と球 7

## 2

### コンパスで長さ比べ

日にち：            月            日

名まえ \_\_\_\_\_


・ 次の直線の長さをくらべ、長い順に答えましょう。

(うすい字はなぞりましょう。)

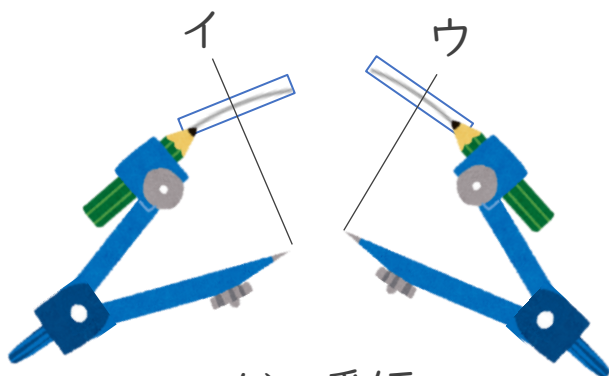
ア \_\_\_\_\_

イ \_\_\_\_\_

ウ \_\_\_\_\_

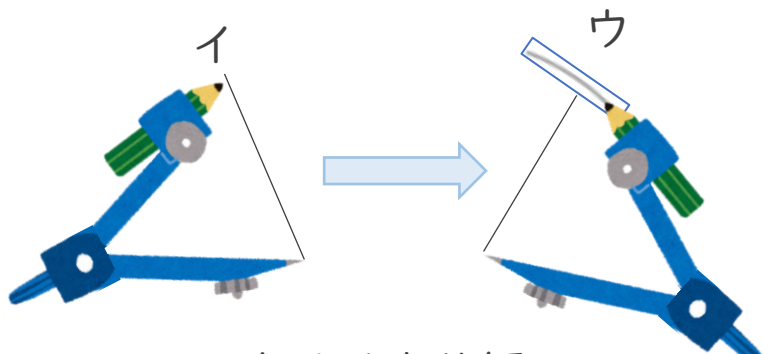


① アにコンパスを  
あてて長さをとる



② コンパスの長さを  
かえないで、  
イやウの長さと  
くらべよう

アが一番短い



③ イにコンパスを  
あてて長さをかえずに  
ウの長さとくらべよう

ウはイより短い

答え：            →            →



# 円と球 7

## 2

### コンパスで長さ比べ

日にち： 月 日

名まえ \_\_\_\_\_


・ 次の直線の長さをくらべ、長い順に答えましょう。

(うすい字はなぞりましょう。)

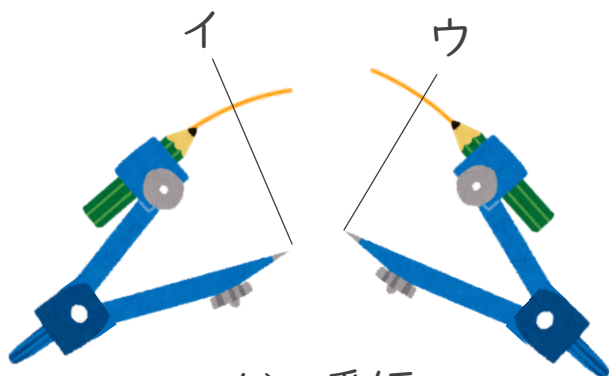
ア \_\_\_\_\_

イ \_\_\_\_\_

ウ \_\_\_\_\_

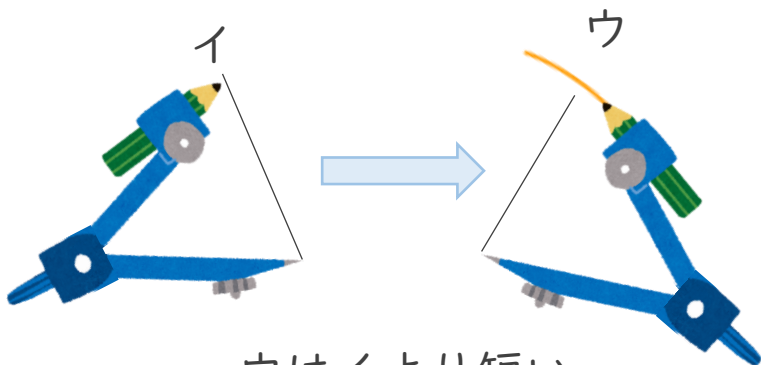


① アにコンパスを  
あてて長さをとる



② コンパスの長さを  
かえないで、  
イやウの長さと  
くらべよう

アが一番短い



③ イにコンパスを  
あてて長さをかえずに  
ウの長さとくらべよう

ウはイより短い

答え： **イ** → **ウ** → **ア**

