



# 円と球 7

コンパスで長さ比べ



日にち： 月 日

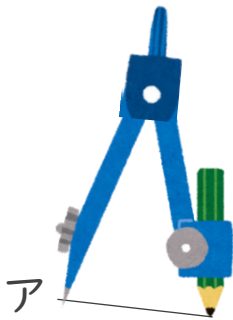
名まえ \_\_\_\_\_

・ 次の直線の長さをくらべ、長いじゆんに答えましょう。  
(うすい字は、なぞりましょう。)

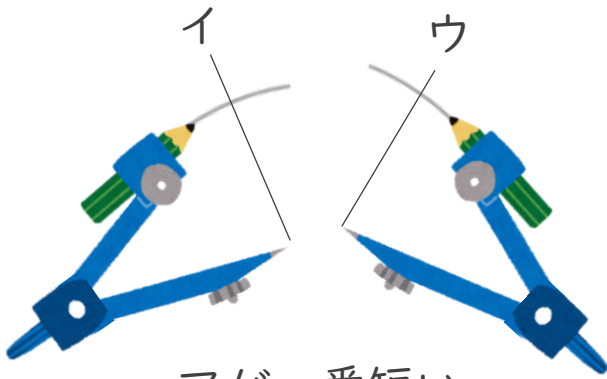
ア \_\_\_\_\_

イ \_\_\_\_\_

ウ \_\_\_\_\_

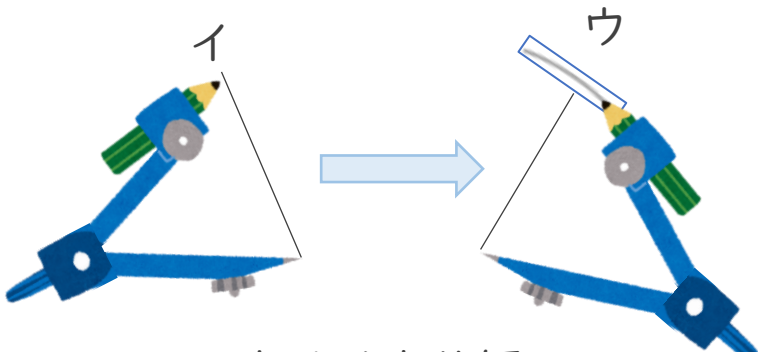


① アにコンパスを  
あてて長さをとる



② コンパスの長さを  
かえないで、  
イやウの長さと  
くらべよう

アが一番短い



③ イにコンパスを  
あてて長さをかえずに  
ウの長さとくらべよう

ウはイより短い

答え： → →





# 円と球 7

コンパスで長さ比べ



日にち： 月 日

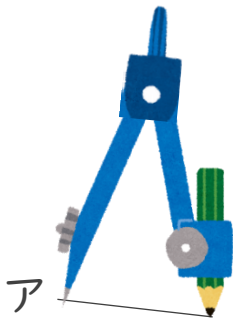
名まえ \_\_\_\_\_

・ 次の直線の長さをくらべ、長いじゆんに答えましょう。  
(うすい字は、なぞりましょう。)

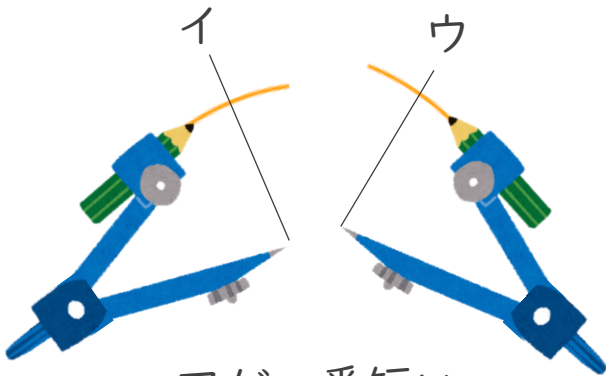
ア \_\_\_\_\_

イ \_\_\_\_\_

ウ \_\_\_\_\_

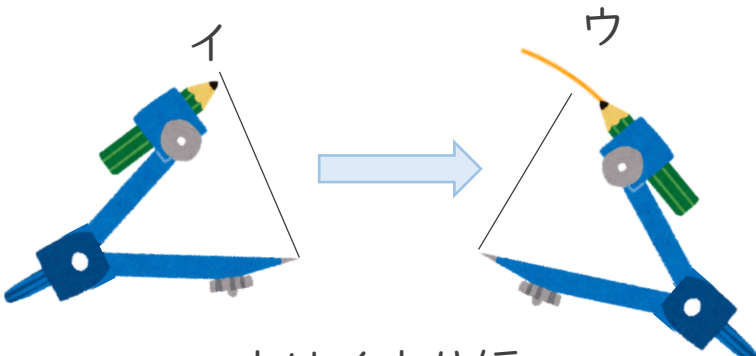


① アにコンパスを  
あてて長さをとる



② コンパスの長さを  
かえないで、  
イやウの長さ  
くらべよう

アが一番短い



③ イにコンパスを  
あてて長さをかえずに  
ウの長さ  
くらべよう

ウはイより短い

答え： **イ** → **ウ** → **ア**

