



円と球 6

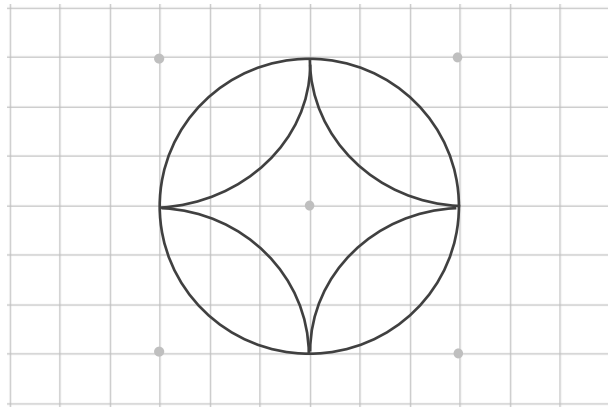
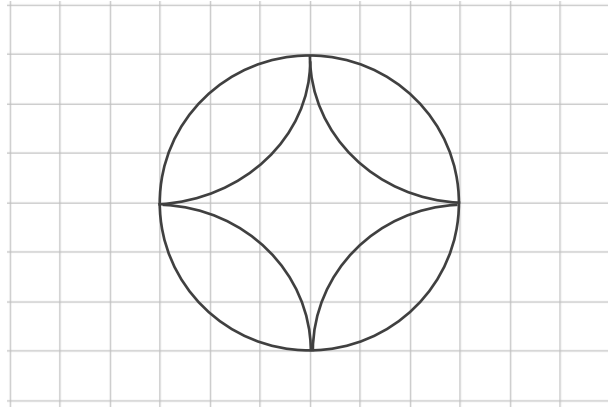
● コンパスを使った
いろいろな作図



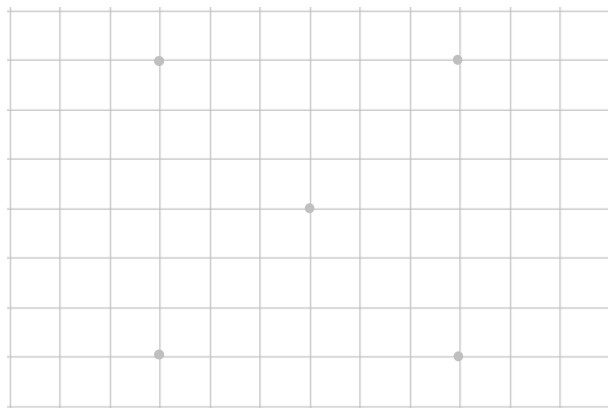
日にち： 月 日

名まえ _____

- ・ コンパスを使って、次のもようをかきましょう。
(うすい字はなぞりましょう。)



① 円の中心を
見つけるんだ！



② 円をかこう！



円と球 6

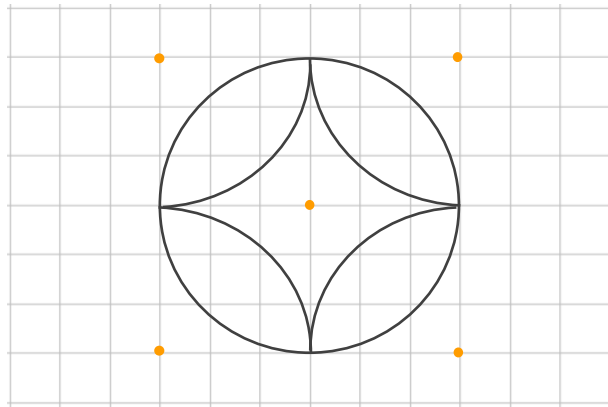
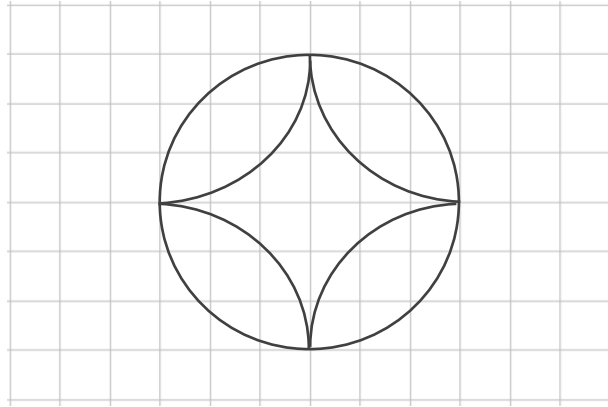
● コンパスを使った
いろいろな作図



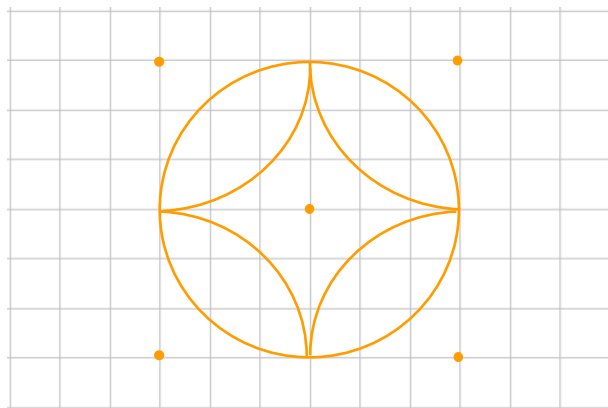
日にち： 月 日

名まえ _____

- ・ コンパスを使って、次のもようをかきましょう。
(うすい字はなぞりましょう。)



① 円の中心を
見つけるんだ！



② 円をかこう！

