



三角形と角 I

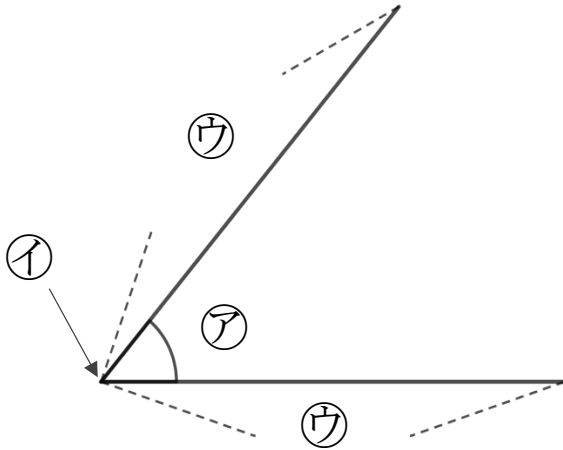
◎ 辺の長さが等しい
三角形の名前



日にち： 月 日

名まえ _____

1 下の㉠～㉣に名前を書きましょう。



答え： ㉠…

㉡…

㉢…

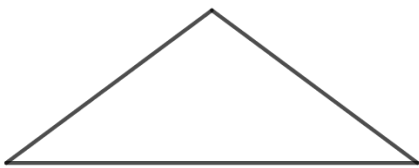
2 次の問題に答えましょう。

① に入る言葉を書きましょう。

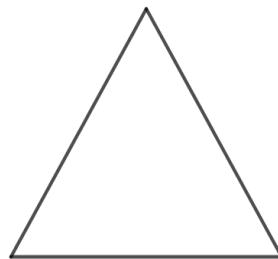
・ 2つの辺の長さが等しい三角形を といいます。

・ 3つの辺の長さが等しい三角形を といいます。

② 次の三角形の名前を答えましょう。



()



()



三角形と角 I

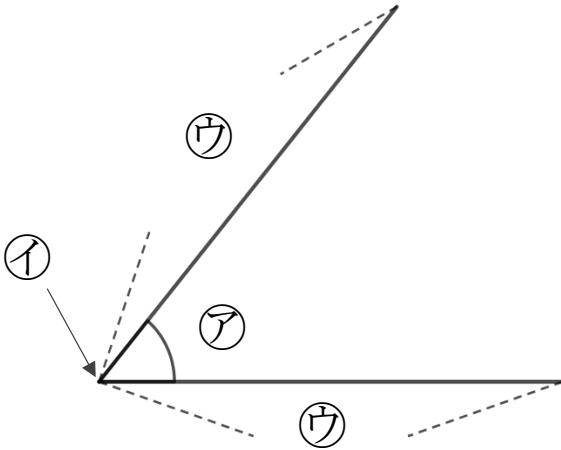
◎ 辺の長さが等しい
三角形の名前



日にち： 月 日

名まえ _____

1 下の㉠～㉣に名前を書きましょう。



答え： ㉠…

角

㉡…

ちょう点

㉢…

辺

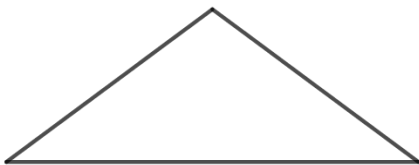
2 次の問題に答えましょう。

① に入る言葉を書きましょう。

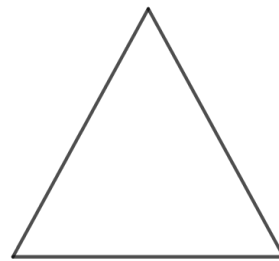
・ 2つの辺の長さが等しい三角形を といいます。

・ 3つの辺の長さが等しい三角形を といいます。

② 次の三角形の名前を答えましょう。



(二等辺三角形)



(正三角形)