



三角形と角5

● 二等辺三角形や
正三角形の中の等しい角

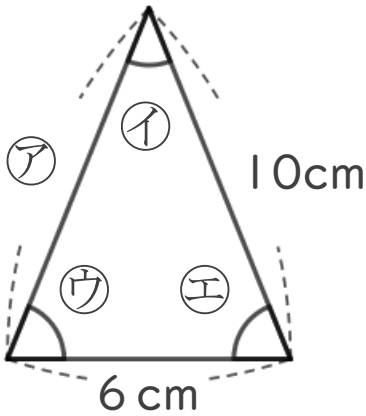


日にち： 月 日

名まえ _____

1 次の図は、二等辺三角形です。(うすい字はなぞりましょう。)

① ㉠の辺の長さは何cmですか。



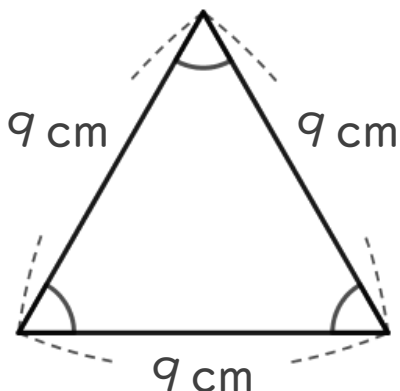
答え： cm

② ㉢の角と大きさが等しい角は、どの角ですか。

答え：

2 次の三角形について答えましょう。(うすい字はなぞりましょう。)

① 何という三角形ですか。



答え：

② 大きさが等しい角は、いくつありますか。

答え： つ



三角形と角5

●二等辺三角形や
正三角形の中の等しい角

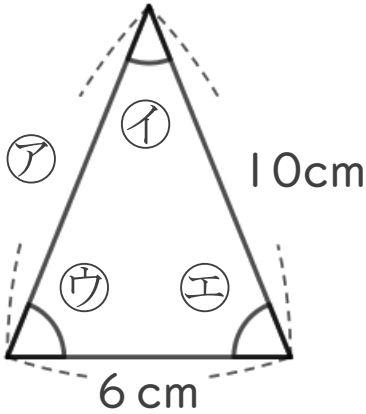


日にち： 月 日

名まえ _____

1 次の図は、二等辺三角形です。(うすい字はなぞりましょう。)

① ㉠の辺の長さは何cmですか。



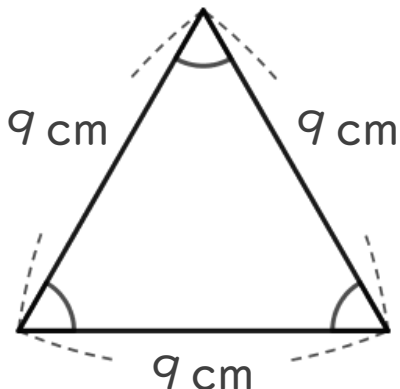
答え： 10cm

② ㉢の角と大きさが等しい角は、どの角ですか。

答え： ㉡

2 次の三角形について答えましょう。(うすい字はなぞりましょう。)

① 何という三角形ですか。



答え： 正三角形

② 大きさが等しい角は、いくつありますか。

答え： 3つ

