



三角形と角2

◎ 正三角形と
二等辺三角形はどれ？

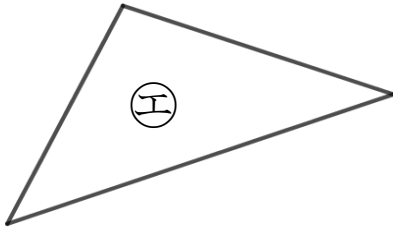
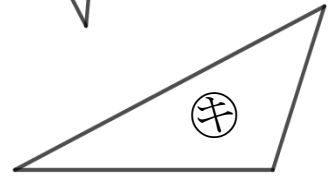
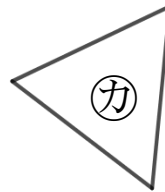
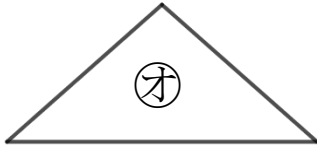
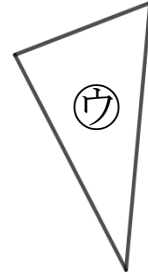
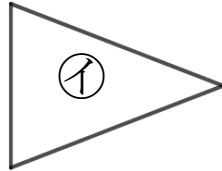
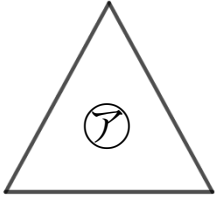


日にち： 月 日

名まえ _____

1 下の図で、正三角形と二等辺三角形をえらびましょう。

(うすい字はしっかりなぞりましょう。)

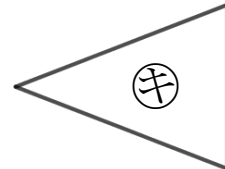
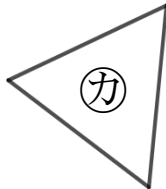
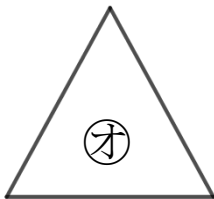
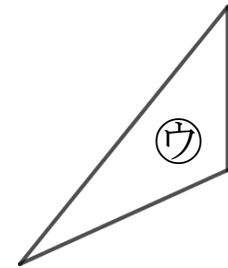
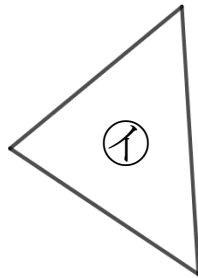
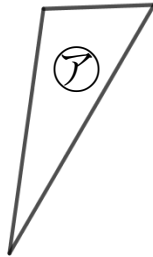
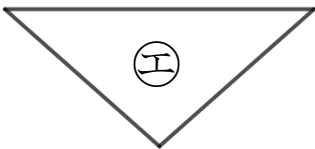


答え： 正三角形… ,

二等辺三角形… ,

2 下の図で、正三角形と二等辺三角形をえらびましょう。

(うすい字はしっかりなぞりましょう。)



答え： 正三角形… ,

二等辺三角形… ,





三角形と角2

◎ 正三角形と
二等辺三角形はどれ？

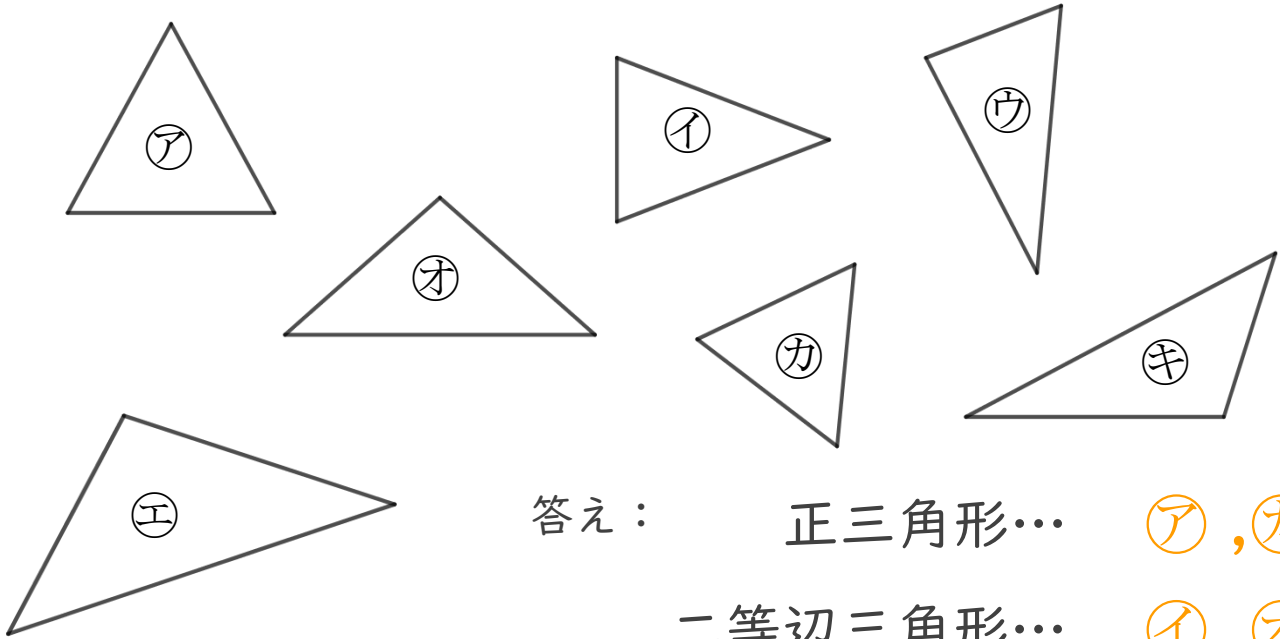


日にち： 月 日

名まえ _____

1 下の図で、正三角形と二等辺三角形をえらびましょう。

(うすい字はしっかりなぞりましょう。)

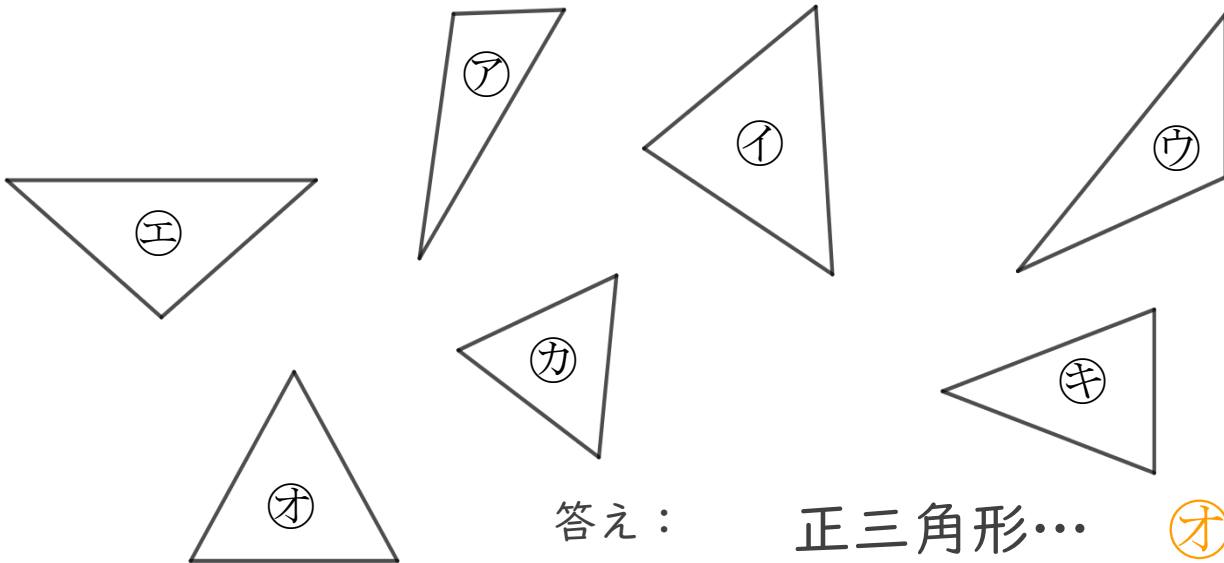


答え： 正三角形… ア, オ

二等辺三角形… イ, カ

2 下の図で、正三角形と二等辺三角形をえらびましょう。

(うすい字はしっかりなぞりましょう。)



答え： 正三角形… オ, カ

二等辺三角形… エ, キ

