



## 三角形と角 6

● 円を使った  
二等辺三角形のかき方

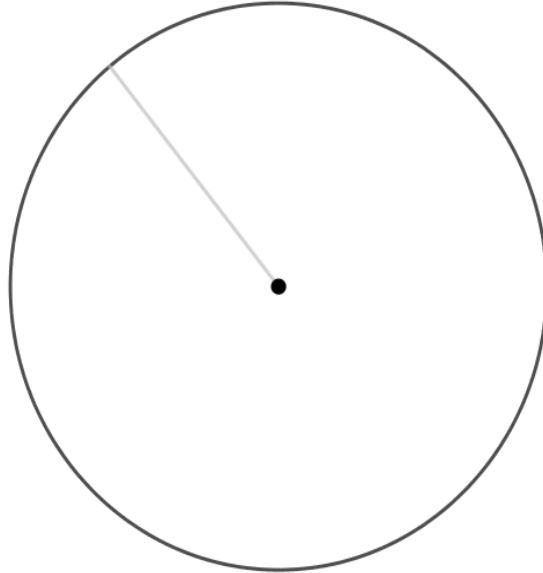


日にち： 月 日

名まえ \_\_\_\_\_

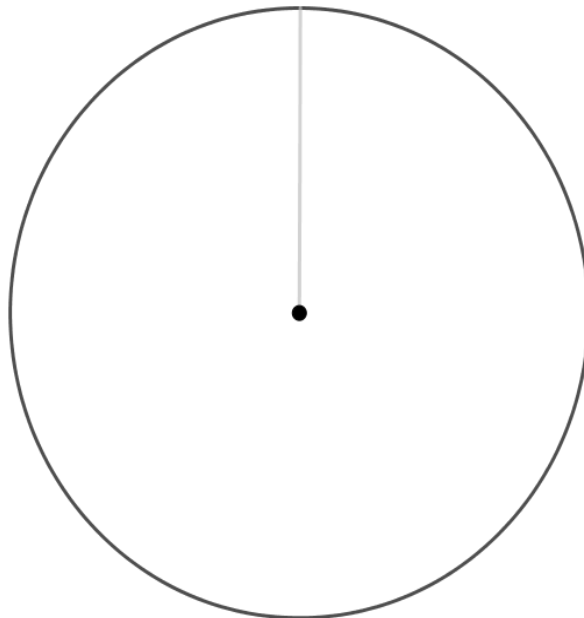
1 円の中に、二等辺三角形をかきましょう。

(うすい字はしっかりなぞりましょう。)



2 円の中に、二等辺三角形をかきましょう。

(うすい字はしっかりなぞりましょう。)





## 三角形と角 6

● 円を使った  
二等辺三角形のかき方

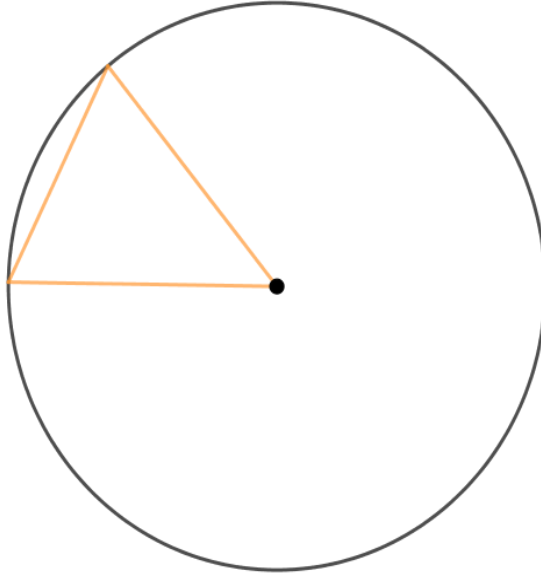


日にち：      月      日

名まえ \_\_\_\_\_

1 円の中に、二等辺三角形をかきましょう。

(うすい字はしっかりなぞりましょう。)



2 円の中に、二等辺三角形をかきましょう。

(うすい字はしっかりなぞりましょう。)

