



円と球 1

● 円の中心・半径・直径とは

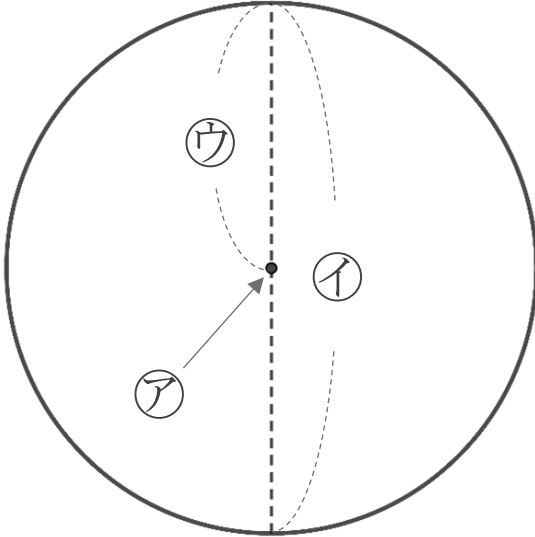


日にち： 月 日

名まえ _____

・ 次のア～ウの名前を答えましょう。

①

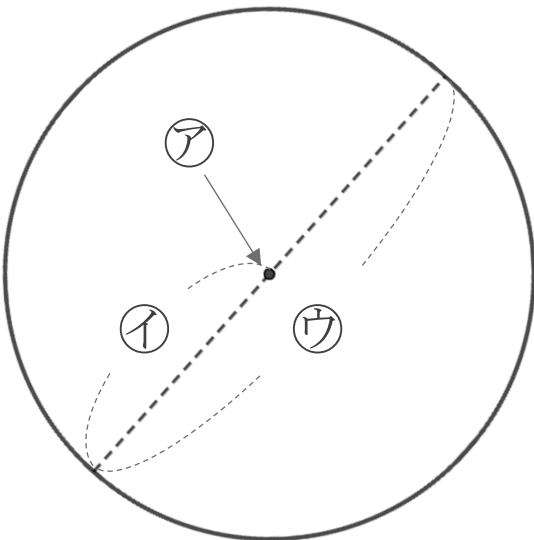


ア： _____

イ： _____

ウ： _____

②



ア： _____

イ： _____

ウ： _____



円と球 1

● 円の中心・半径・直径とは

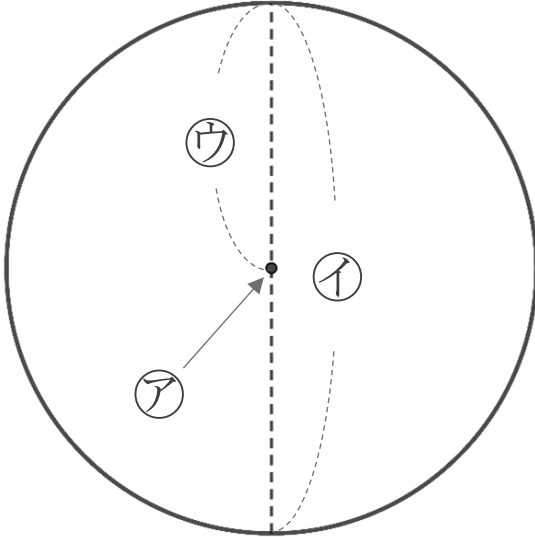


日にち： 月 日

名まえ _____

・ 次のア～ウの名前を答えましょう。

①



ア：

中心

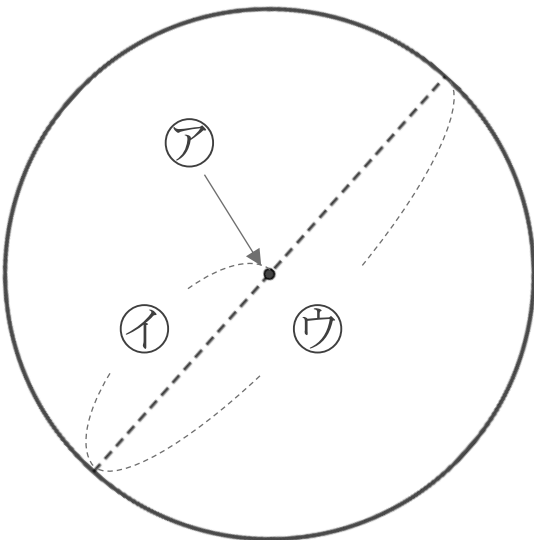
イ：

直径

ウ：

半径

②



ア：

中心

イ：

半径

ウ：

直径