



時こくと時間の  
もとめかた 15

● 分と秒



日にち：            月            日

名まえ \_\_\_\_\_

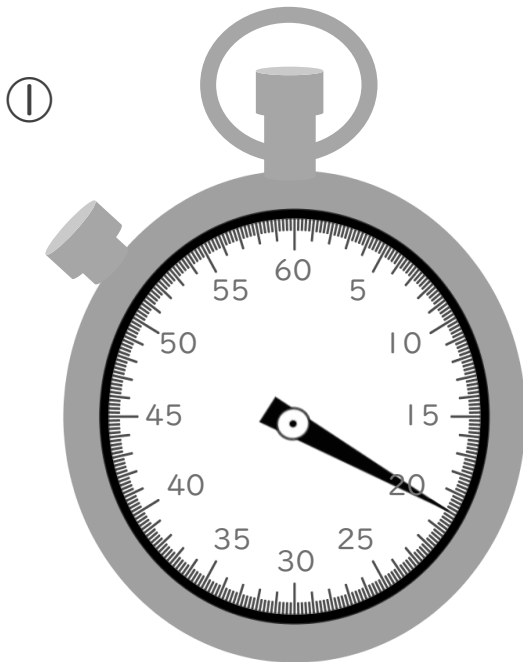
- ・ 1分より短い時間のたんに、秒（びょう）があります。次の問いに答えましょう。

1  にあてはまる数を書きましょう。

① 1分 =  秒

② 60秒 =  分

2 次のストップウォッチは、それぞれ何秒を表していますか。



秒

②



秒





時こくと時間の  
もとめかた 15

分と秒



日にち：          月          日

名まえ \_\_\_\_\_

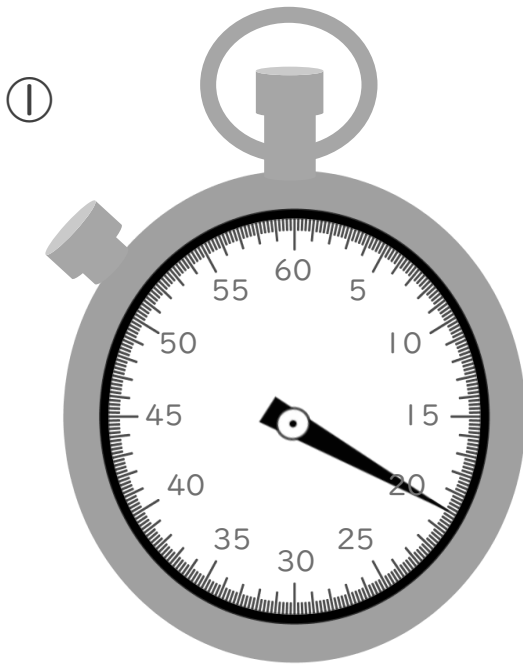
- ・ 1分より短い時間のたんに、秒（びょう）があります。次の問いに答えましょう。

1 □ にあてはまる数を書きましょう。

① 1分 = 60 秒

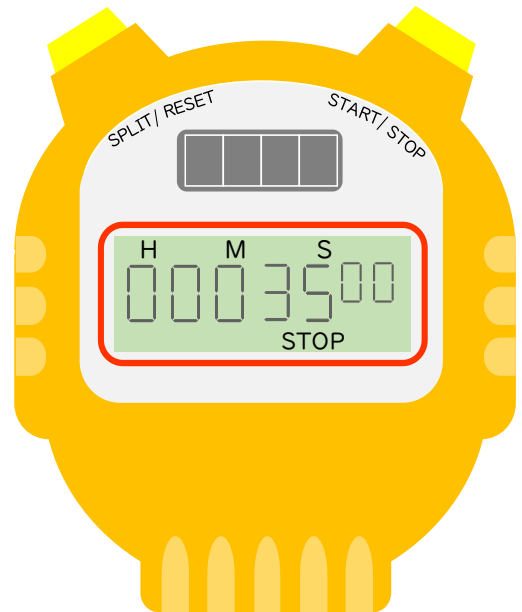
② 60秒 = 1 分

2 次のストップウォッチは、それぞれ何秒を表していますか。



20 秒

②



35 秒

