



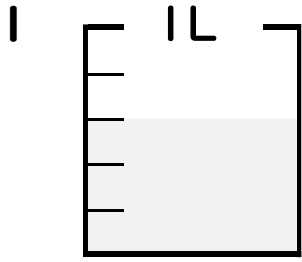
分数 5

● 分数の水のかさの色ぬり



日にち： 月 日

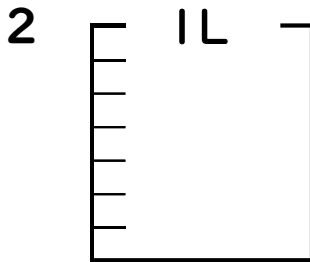
名まえ _____



① $\frac{1}{5}$ Lの 3 分だけ色をぬりましょう。

② 色をぬったところのかさは何Lですか。

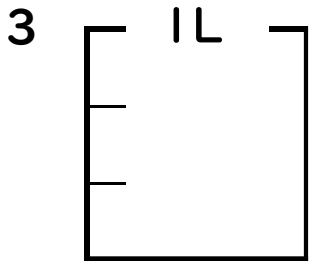
 L
 $\frac{3}{5}$



① $\frac{1}{7}$ Lの 4 分だけ色をぬりましょう。

② 色をぬったところのかさは何Lですか。

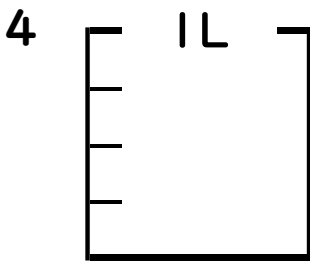
 L



① $\frac{1}{3}$ Lの 1 分だけ色をぬりましょう。

② 色をぬったところのかさは何Lですか。

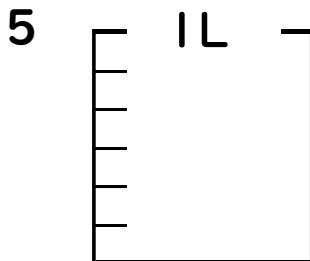
 L



① $\frac{1}{4}$ Lの 2 分だけ色をぬりましょう。

② 色をぬったところのかさは何Lですか。

 L



① $\frac{1}{6}$ Lの 5 分だけ色をぬりましょう。

② 色をぬったところのかさは何Lですか。

 L





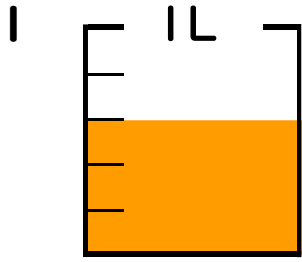
分数 5

● 分数の水のかさの色ぬり



日にち： 月 日

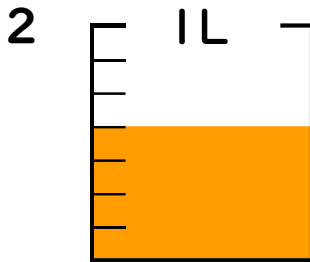
名まえ _____



① $\frac{1}{5}$ Lの 3 ぶんだけ色をぬりましょう。

② 色をぬったところのかさは何Lですか。

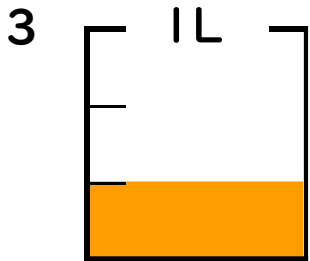
$\frac{3}{5}$ L



① $\frac{1}{7}$ Lの 4 ぶんだけ色をぬりましょう。

② 色をぬったところのかさは何Lですか。

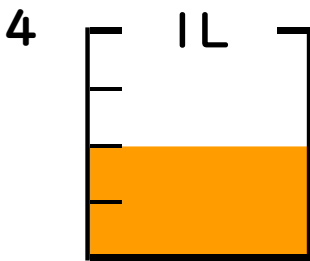
$\frac{4}{7}$ L



① $\frac{1}{3}$ Lの 1 ぶんだけ色をぬりましょう。

② 色をぬったところのかさは何Lですか。

$\frac{1}{3}$ L



① $\frac{1}{4}$ Lの 2 ぶんだけ色をぬりましょう。

② 色をぬったところのかさは何Lですか。

$\frac{2}{4}$ L



① $\frac{1}{6}$ Lの 5 ぶんだけ色をぬりましょう。

② 色をぬったところのかさは何Lですか。

$\frac{5}{6}$ L

