



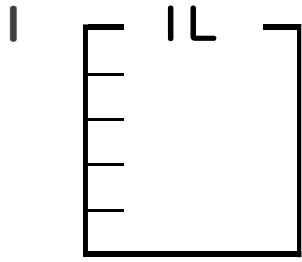
# 分数 5

● 分数の水のかさの色ぬり



日にち：            月            日

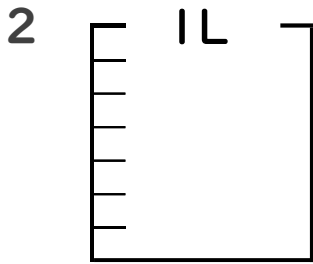
名まえ \_\_\_\_\_



①  $\frac{1}{5}$  Lの 3 分だけ色をぬりましょう。

② 色をぬったところのかさは何Lですか。  
(うすい字はなぞりましょう。)

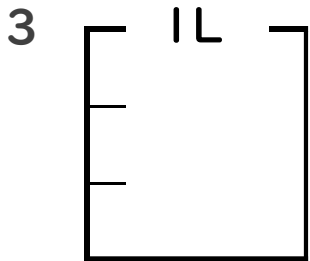
            
 $\frac{3}{5}$  L



①  $\frac{1}{7}$  Lの 4 分だけ色をぬりましょう。

② 色をぬったところのかさは何Lですか。

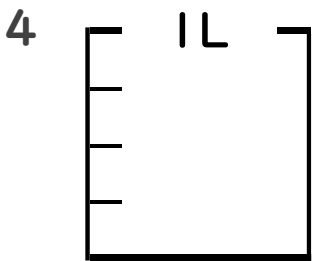
           L



①  $\frac{1}{3}$  Lの 1 分だけ色をぬりましょう。

② 色をぬったところのかさは何Lですか。

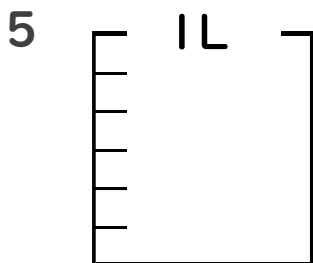
           L



①  $\frac{1}{4}$  Lの 2 分だけ色をぬりましょう。

② 色をぬったところのかさは何Lですか。

           L



①  $\frac{1}{6}$  Lの 5 分だけ色をぬりましょう。

② 色をぬったところのかさは何Lですか。

           L





# 分数 5

● 分数の水のかさの色ぬり



日にち：            月            日

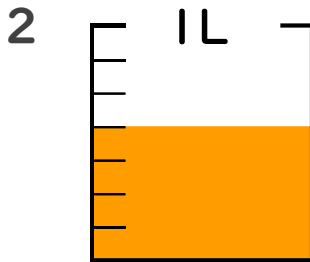
名まえ \_\_\_\_\_



①  $\frac{1}{5}$  Lの 3 ぶんだけ色をぬりましょう。

② 色をぬったところのかさは何Lですか。  
(うすい字はなぞりましょう。)

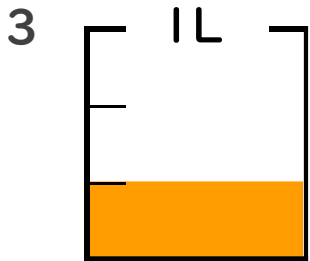
$\frac{3}{5}$  L



①  $\frac{1}{7}$  Lの 4 ぶんだけ色をぬりましょう。

② 色をぬったところのかさは何Lですか。

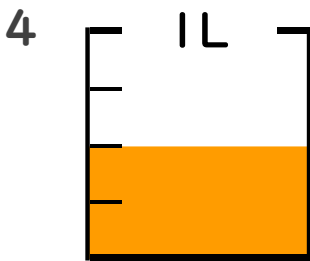
$\frac{4}{7}$  L



①  $\frac{1}{3}$  Lの 1 ぶんだけ色をぬりましょう。

② 色をぬったところのかさは何Lですか。

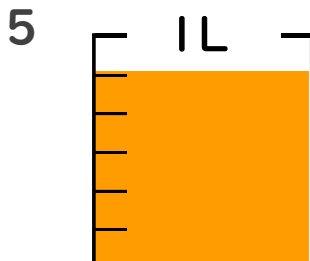
$\frac{1}{3}$  L



①  $\frac{1}{4}$  Lの 2 ぶんだけ色をぬりましょう。

② 色をぬったところのかさは何Lですか。

$\frac{2}{4}$  L



①  $\frac{1}{6}$  Lの 5 ぶんだけ色をぬりましょう。

② 色をぬったところのかさは何Lですか。

$\frac{5}{6}$  L

