



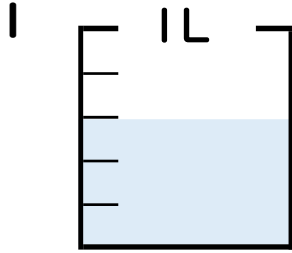
分数 4

分数の水のかさの読み取り



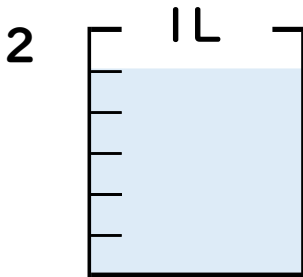
日にち： 月 日

名まえ



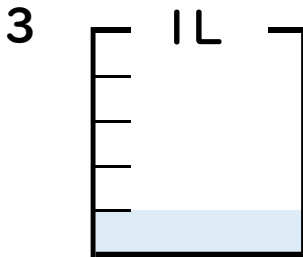
① 図の水のかさは1めもりの何こ分ですか？ 半分

② 水のかさは、何^{リットル}Lですか？ L



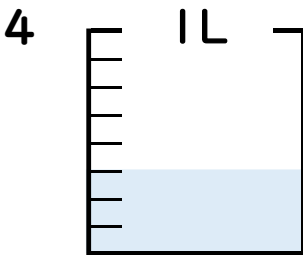
① 図の水のかさは1めもりの何こ分ですか？ 半分

② 水のかさは、何^{リットル}Lですか？ L



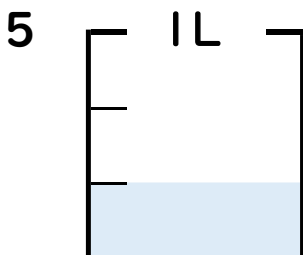
① 図の水のかさは1めもりの何こ分ですか？ 半分

② 水のかさは、何^{リットル}Lですか？ L



① 図の水のかさは1めもりの何こ分ですか？ 半分

② 水のかさは、何^{リットル}Lですか？ L



① 図の水のかさは1めもりの何こ分ですか？ 半分

② 水のかさは、何^{リットル}Lですか？ L





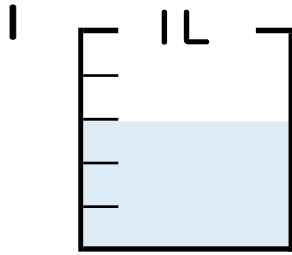
分数 4

分数の水のかさの読み取り



日にち： 月 日

名まえ _____

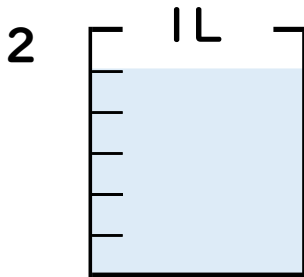


① 図の水のかさは1めもりの何こ分ですか？

3 こ分

② 水のかさは、何^{リットル}Lですか？

$\frac{3}{5}$ L

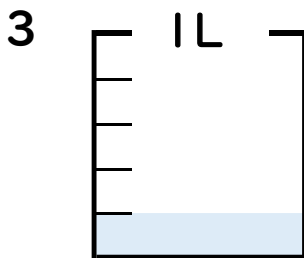


① 図の水のかさは1めもりの何こ分ですか？

5 こ分

② 水のかさは、何^{リットル}Lですか？

$\frac{5}{6}$ L

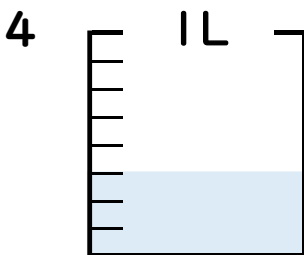


① 図の水のかさは1めもりの何こ分ですか？

1 こ分

② 水のかさは、何^{リットル}Lですか？

$\frac{1}{5}$ L

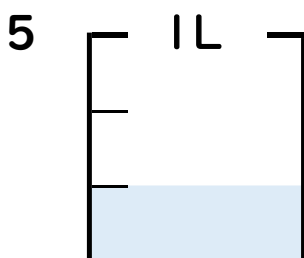


① 図の水のかさは1めもりの何こ分ですか？

3 こ分

② 水のかさは、何^{リットル}Lですか？

$\frac{3}{8}$ L



① 図の水のかさは1めもりの何こ分ですか？

1 こ分

② 水のかさは、何^{リットル}Lですか？

$\frac{1}{3}$ L

