



分数 3

● 分数の長さの色ぬり



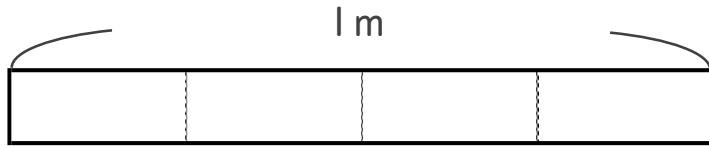
日にち： 月 日

名まえ _____

・ 次の長さの分だけ色をぬりましょう。

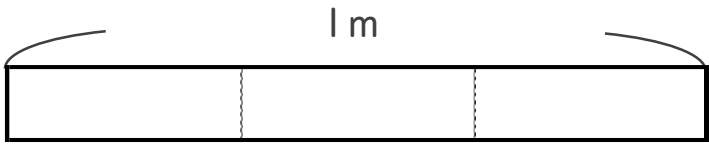
①

$\frac{3}{4}$



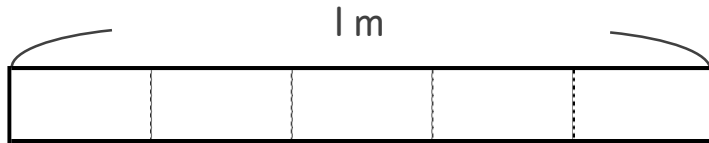
②

$\frac{1}{3}$



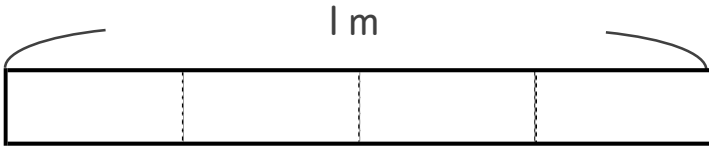
③

$\frac{2}{5}$



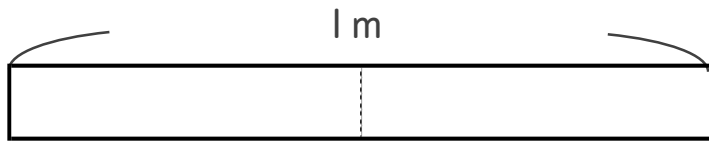
④

$\frac{2}{4}$



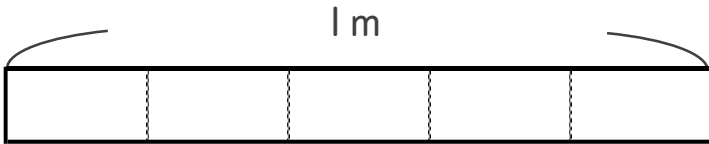
⑤

$\frac{1}{2}$



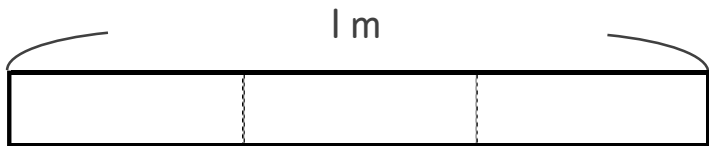
⑥

$\frac{3}{5}$



⑦

$\frac{2}{3}$





分数 3

● 分数の長さの色ぬり



日にち： 月 日

名まえ _____

・ 次の長さの分だけ色をぬりましょう。

