



分数 2

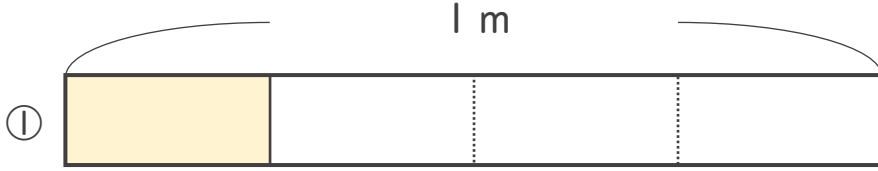
● 分数の長さの読み取り



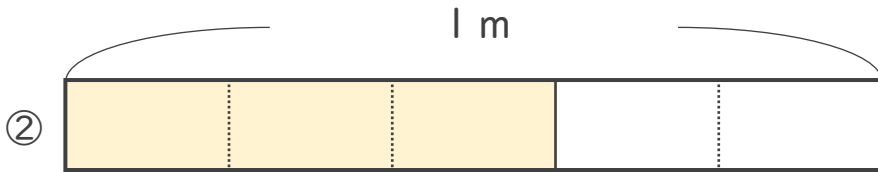
日にち： 月 日

名まえ _____

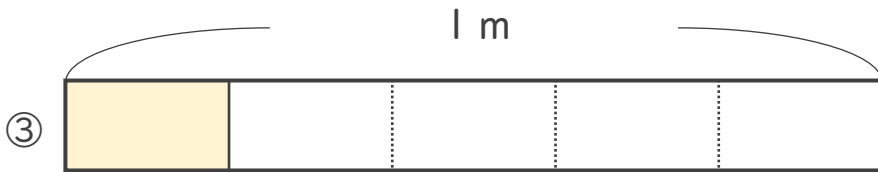
・色をぬったところの長さは、何^{いろ}mでしよう。^{なが} (うすい字はなぞりましよう。)^{なん}



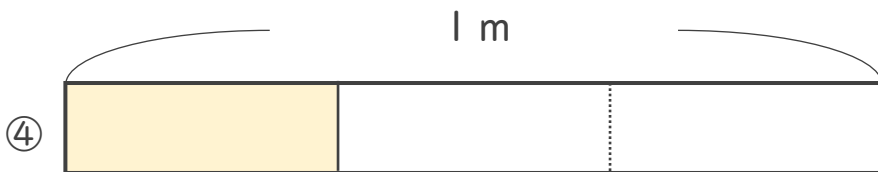
こたえ： $\frac{1}{4}$ m




こたえ： $\frac{3}{5}$ m



こたえ： m



こたえ： m



こたえ： m



こたえ： m



こたえ： m



分数 2

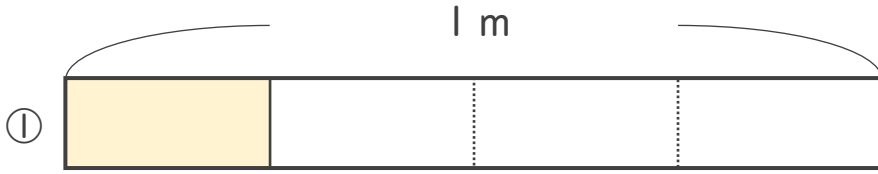
● 分数の長さの読み取り



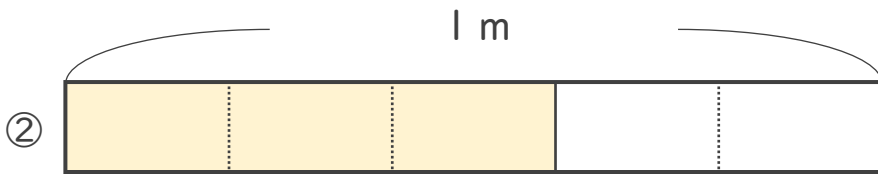
日にち： 月 日

名まえ _____

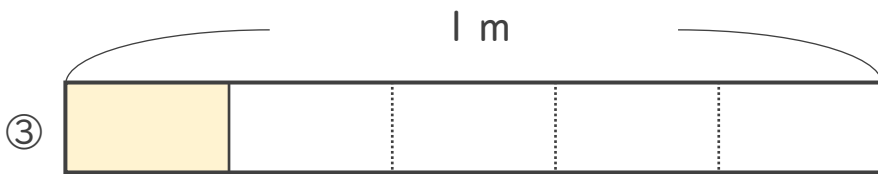
・ 色をぬったところの長さは、何mでしょう。(うすい字はなぞりましょう。)




こたえ： $\frac{1}{4}$ m




こたえ： $\frac{3}{5}$ m



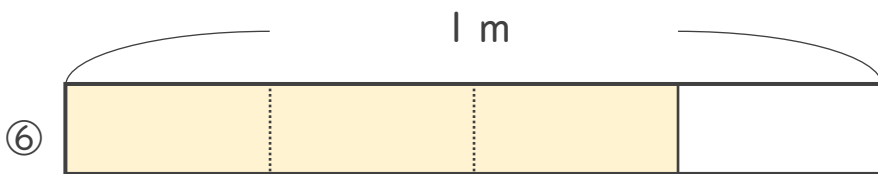
こたえ： $\frac{1}{5}$ m



こたえ： $\frac{1}{3}$ m



こたえ： $\frac{2}{3}$ m



こたえ： $\frac{3}{4}$ m



こたえ： $\frac{1}{2}$ m

