



## 円と球 4

● 半径の長さから円をかく

2

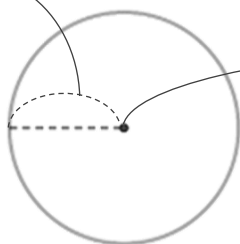
日にち：            月            日

名まえ \_\_\_\_\_

- ・コンパスを使って、次の円をかきましょう。  
(うすい字はなぞりましょう。)

### ① 半径が1cm5mmの円

1cm5mm



- ① コンパスを 1cm5mm に開いて **中心** にはりをさして円をかく
- ② かいた円の直径が 3cmになっているかチェックしよう

### ② 半径が5cmの円

- ① コンパスを **cm** に開いて円をかく
- ② かいた円の直径が **cm** になっているかチェックしよう



## 円と球 4

● 半径の長さから円をかく

2

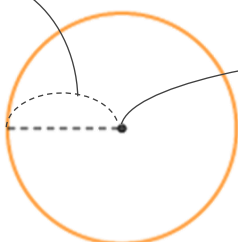
日にち：            月            日

名まえ \_\_\_\_\_

- ・コンパスを使って、次の円をかきましょう。  
(うすい字はなぞりましょう。)

### ① 半径が1cm5mmの円

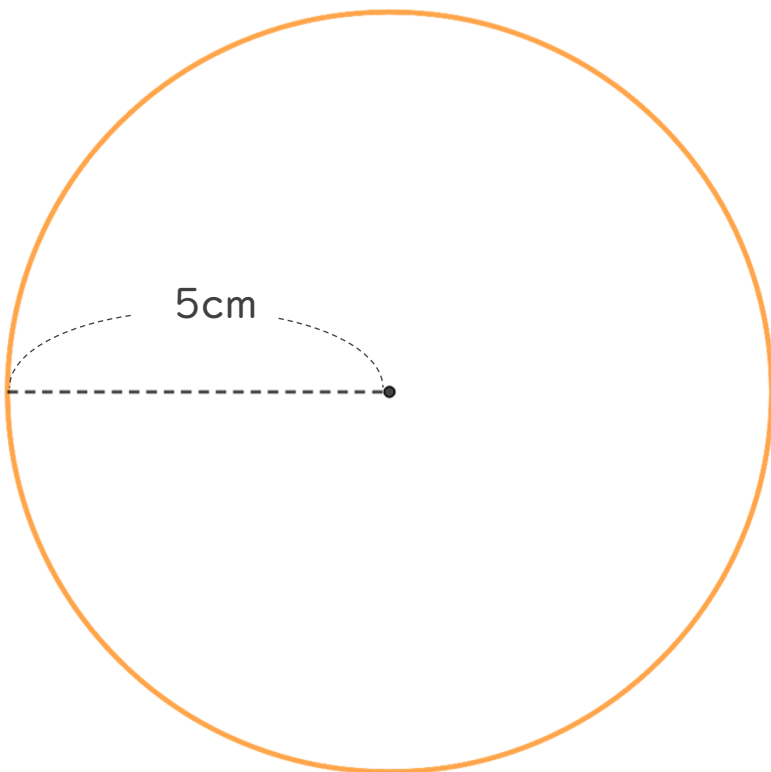
1cm5mm



- ① コンパスを 1cm5mm に開いて **中心** にはりをさして円をかく
- ② かいた円の直径が 3cmになっているかチェックしよう

### ② 半径が5cmの円

5cm



- ① コンパスを **5cm** に開いて円をかく
- ② かいた円の直径が **10cm** になっているかチェックしよう

