



円と球 4

● 半径の長さから円をかく



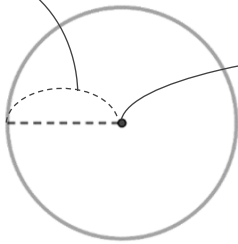
日にち： 月 日

名まえ _____

- ・コンパスを使って、次の円をかきましょう。
(うすい字はなぞりましょう。)

① 半径が 1 cm 5 mm の円

1 cm 5 mm



- ① コンパスを 1 cm 5 mm に開いて **中心** にはりをさして円をかく
- ② かいた円の直径が 3 cm になっているかチェックしよう

② 半径が 5 cm の円

- ① コンパスを **cm** に開いて円をかく
- ② かいた円の直径が **cm** になっているかチェックしよう



円と球 4

● 半径の長さから円をかく



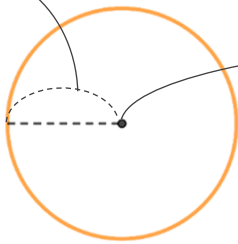
日にち： 月 日

名まえ _____

・コンパスを使って、次の円をかきましょう。
(うすい字はなぞりましょう。)

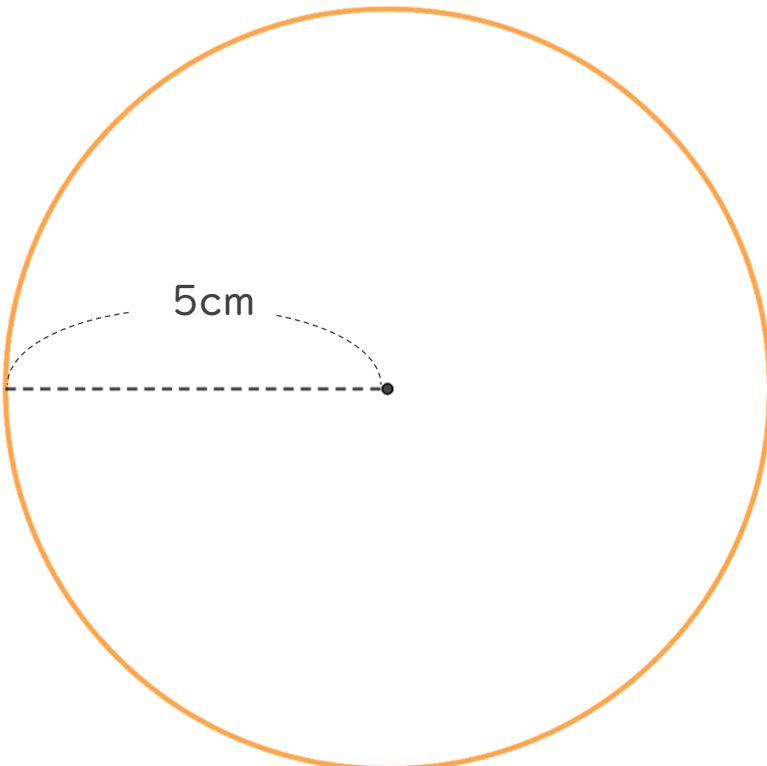
① 半径が 1 cm 5 mm の円

1 cm 5 mm



- ① コンパスを 1 cm 5 mm に開いて **中心** にはりをさして円をかく
- ② かいた円の直径が 3 cm になっているかチェックしよう

② 半径が 5 cm の円



- ① コンパスを **5 cm** に開いて円をかく
- ② かいた円の直径が **10 cm** になっているかチェックしよう

