



わり算 7

● 商が0や1になるわり算




日にち： 月 日

名まえ _____

- ・箱に入っているクッキーを5人で同じ数ずつ分けます。
1人分は何こになりますか。(うすい字はなぞりましょう。)

① 10こ入っているとき





$$\square \div 5 = \square$$

答え

こ

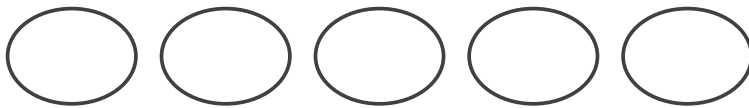
② 5こ入っているとき



$$\square \div 5 = \square$$

答え

③ 入っていないとき



$$0 \div 5 = 0$$

答え

0をどんな数でわっても、
答えはいつも0になるよ！





わり算7

● 商が0や1になるわり算




日にち： 月 日

名まえ _____

- 箱に入っているクッキーを5人で同じ数ずつ分けます。
1人分は何こになりますか。
(うすい字はなぞりましょう。)



① 10こ入っているとき



$$10 \div 5 = 2$$

答え 2こ

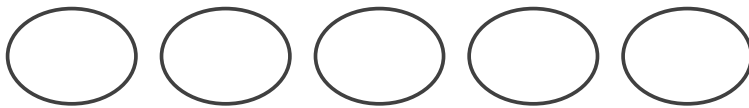
② 5こ入っているとき



$$5 \div 5 = 1$$

答え 1こ

③ 入っていないとき



$$0 \div 5 = 0$$

答え 0こ

0をどんな数でわっても、
答えはいつも0になるよ！

