



小数の意味と表し方7

● 小数で表す1cmより短い長さ

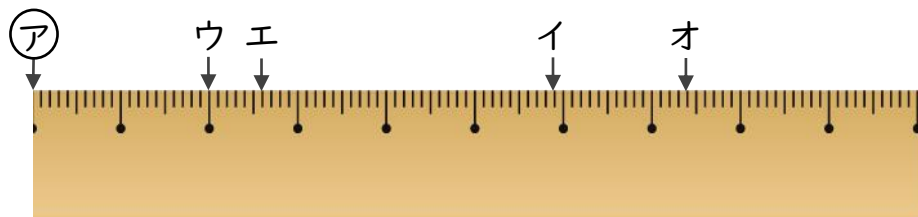


日にち： 月 日

名まえ _____

・ ㊦からイ、ウ、エ、オまでの長さは、それぞれ何cmですか。
(うすい字はなぞりましょう。)

①

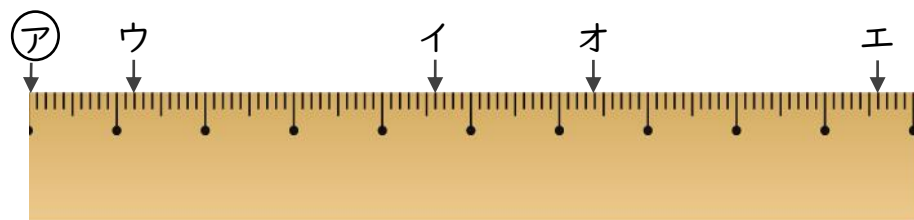


答え ㊦からイ 5.9 cm ㊦からウ 2 cm

㊦からエ

㊦からオ

②



答え ㊦からイ ㊦からウ

㊦からエ

㊦からオ



小数の意味と表し方7

● 小数で表す1cmより短い長さ

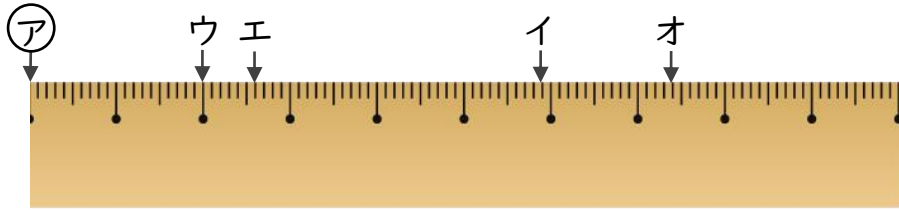


日にち： 月 日

名まえ _____

・ ㊦からイ、ウ、エ、オまでの長さは、それぞれ何cmですか。
(うすい字はなぞりましょう。)

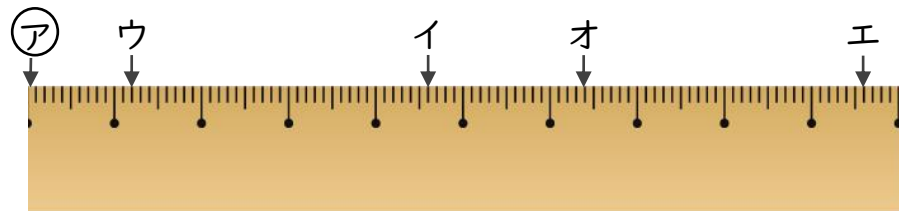
①



答え ㊦からイ 5.9 cm ㊦からウ 2 cm

 ㊦からエ 2.6 cm ㊦からオ 7.4 cm

②



答え ㊦からイ 4.6 cm ㊦からウ 1.2 cm

 ㊦からエ 9.6 cm ㊦からオ 6.4 cm