



小数の意味と表し方II

● 小数の位置を数直線へ書きこむ



日にち： 月 日

名まえ _____

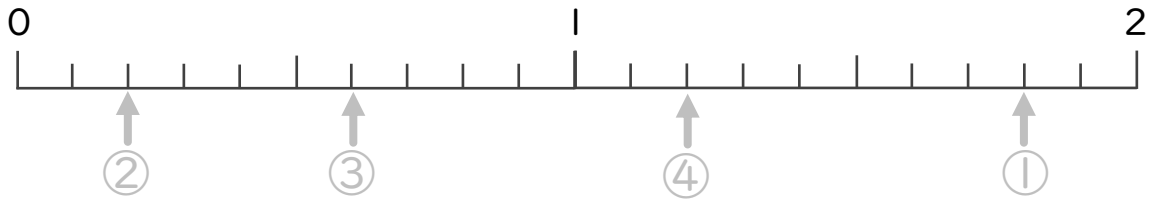
・ 次の数を、数直線に ↑ で数を書きましょう。
(うすい字はしっかりなぞりましょう。)

① 1.8

② 0.2

③ 0.6

④ 1.2

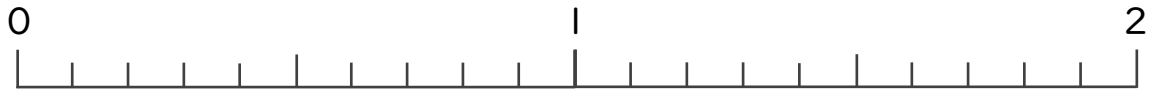


⑤ 1.9

⑥ 0.5

⑦ 1.7

⑧ 0.7




⑨ 0.4

⑩ 0.8

⑪ 2

⑫ 0.7





小数の意味と表し方 II

● 小数の位置を数直線へ書きこむ



日にち： 月 日

名まえ

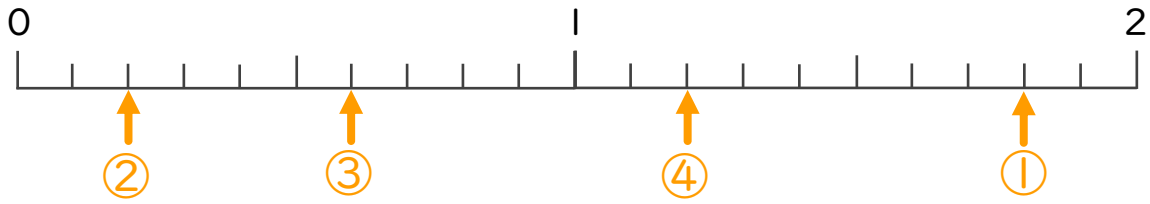
・ 次の数を、数直線に ↑ で数を書きましょう。
(うすい字はしっかりなぞりましょう。)

① 1.8

② 0.2

③ 0.6

④ 1.2

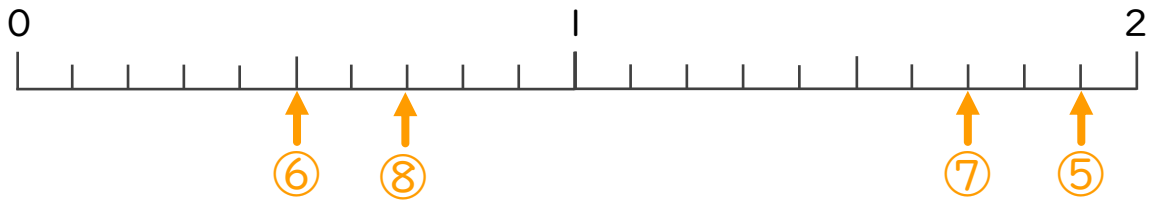


⑤ 1.9

⑥ 0.5

⑦ 1.7

⑧ 0.7



⑨ 0.4

⑩ 0.8

⑪ 2

⑫ 0.7

