



たし算と
ひき算の筆算 22

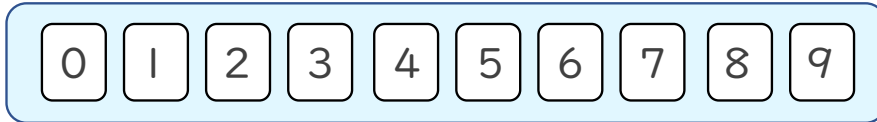
● 式をつくろう
(大きな数のたし算)



日にち： 月 日

名まえ _____

- ・ $\boxed{0}$ から $\boxed{9}$ までの10まいのカードを8まい使って、
答えが9000になるたし算の式をつくりましょう。

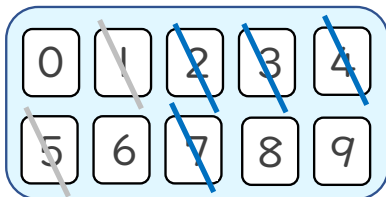


$$\square\square\square\square + \square\square\square\square = 9000$$

☆ 次の \square に数字を入れましょう。(うすい字はなぞりましょう。)

①

	7	4	3	2
+	1	5		
	9	0	0	0



< 千の位 >

くり上げた1もたして9になる数を見つける。

< 十の位・百の位 >

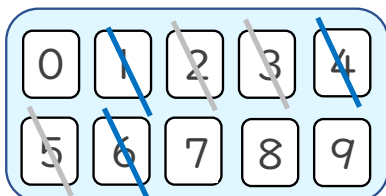
くり上げた1もたして10になる数を見つける。

< 一の位 >

たして10になる数字を見つける。

②

	6	1	4	3
+	2		5	
	9	0	0	0



使った数字は
チェックしておこう！





たし算と
ひき算の筆算 22

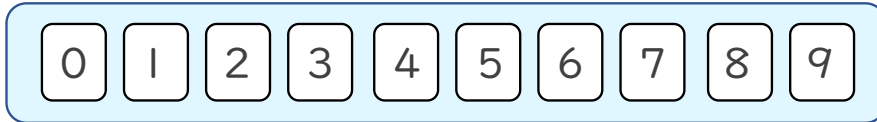
● 式をつくろう
(大きな数のたし算)



日にち： 月 日

名まえ _____

- ・ $\boxed{0}$ から $\boxed{9}$ までの10まいのカードを8まい使って、
答えが9000になるたし算の式をつくりましょう。

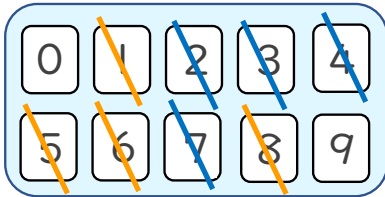


$$\square\square\square\square + \square\square\square\square = 9000$$

☆ 次の \square に数字を入れましょう。(うすい字はなぞりましょう。)

①

	7	4	3	2
+	1	5	6	8
	9	0	0	0



< 千の位 >

くり上げた1もたして9になる数を見つける。

< 十の位・百の位 >

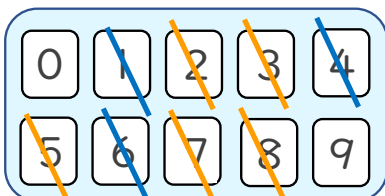
くり上げた1もたして10になる数を見つける。

< 一の位 >

たして10になる数字を見つける。

②

	6	1	4	3
+	2	8	5	7
	9	0	0	0



使った数字は
チェックしておこう！

