



□を使った式 10

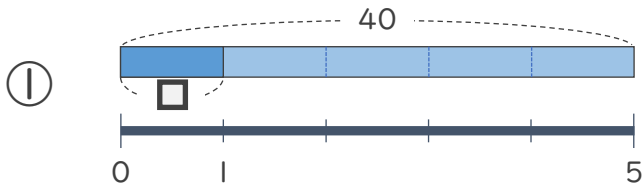
● 数 ÷ □ の
□ をもとめる計算



日にち： 月 日

名まえ _____

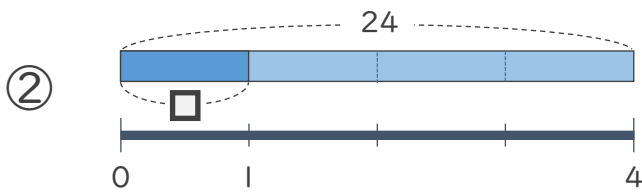
・ □ にあてはまる数をもとめましょう。(うすい字はなぞりましょう)



$$40 \div \square = 5$$

$$\square = 40 \div 5$$

$$\square = 8$$



$$24 \div \square = 4$$

$$\square = 24 \div 4$$

$$\square =$$



□を使った式 10

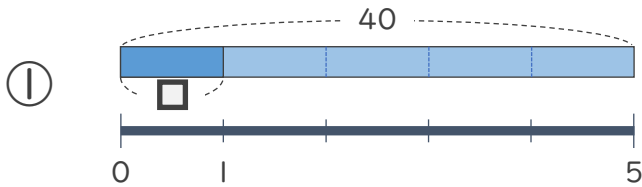
● 数 ÷ □ の
□ をもとめる計算



日にち： 月 日

名まえ _____

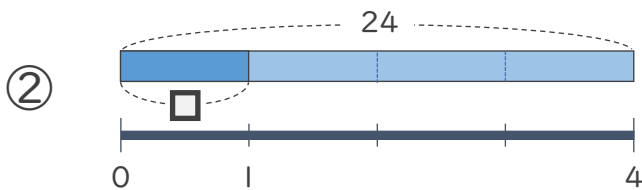
- にあてはまる数をもとめましょう。(うすい字はなぞりましょう)



$$40 \div \square = 5$$

$$\square = 40 \div 5$$

$$\square = 8$$



$$24 \div \square = 4$$

$$\square = 24 \div 4$$

$$\square = 6$$

