



小数の意味と表し方 10

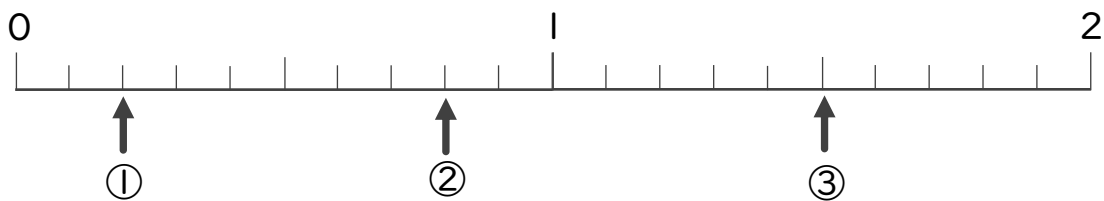
● 数直線の小数の読みとり



日にち： 月 日

名まえ _____

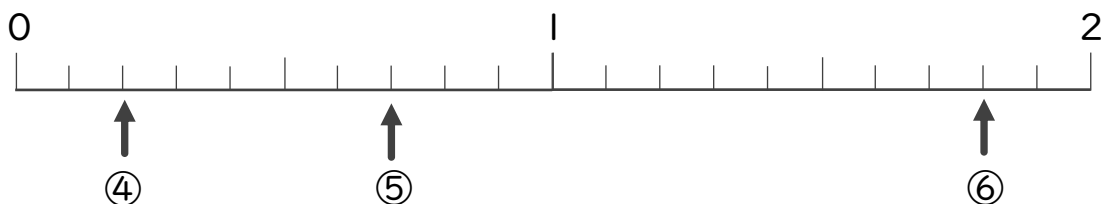
・ 下の数直線を見て ↑ のめもりが表す数を書きましょう。
(うすい字はなぞりましょう。)



① 0.2

② 0.8

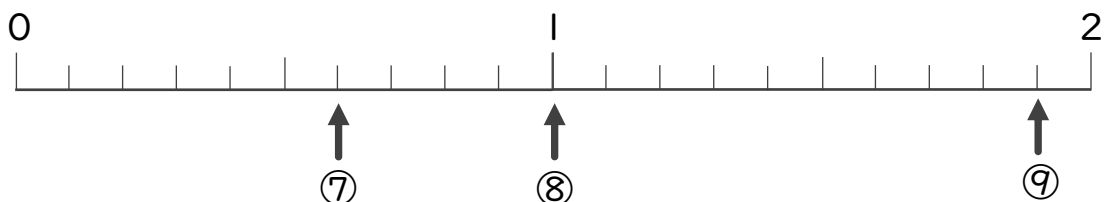
③ 1.5



④

⑤

⑥



⑦

⑧

⑨



小数の意味と表し方 10

数直線の小数の読みとり



日にち： 月 日

名まえ _____

・下の数直線を見て ↑ のめもりが表す数を書きましょう。
(うすい字はなぞりましょう。)

