



□を使った式 8

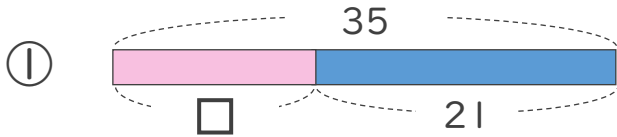
● 数-□の□をもとめる計算



日にち： 月 日

名まえ _____

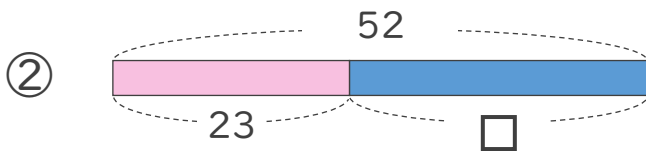
・ □にあてはまる数をもとめましょう。(うすい字はなぞりましょう)



$$35 - \square = 21$$

$$\square = 35 - 21$$

$$\square =$$



$$52 - \square = 23$$

$$\square =$$

$$\square =$$



□を使った式 8

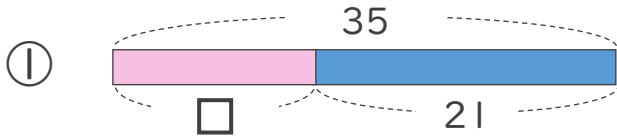
● 数-□の□をもとめる計算



日にち： 月 日

名まえ _____

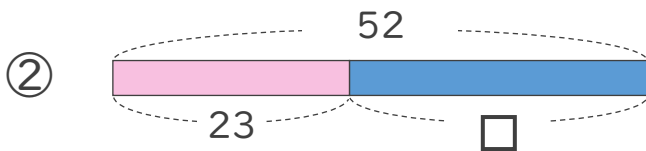
・ □にあてはまる数をもとめましょう。(うすい字はなぞりましょう)



$$35 - \square = 21$$

$$\square = 35 - 21$$

$$\square = 14$$



$$52 - \square = 23$$

$$\square = 52 - 23$$

$$\square = 29$$

