



# 時こくと時間の もとめかた 8



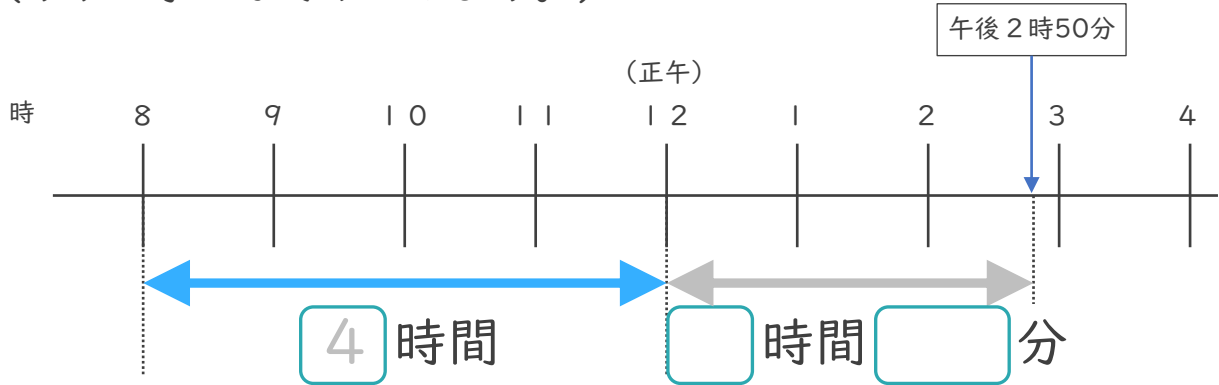
● 正午をはさむ計算

日にち：            月            日

名まえ \_\_\_\_\_

1 午前8時から午後2時50分までの時間をもとめます。

(うすい字はなぞりましょう。)

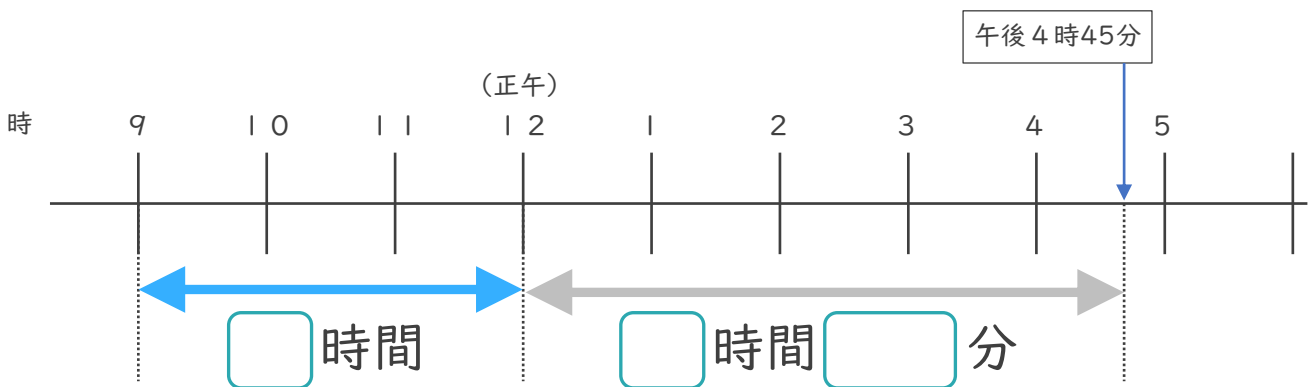


① □にあてはまる数を書きましょう。

② 午前8時から午後2時50分までの時間は何時間何分ですか。

答え (            6時間50分            )

2 午前9時から午後4時45分までの時間をもとめます。



① □にあてはまる数を書きましょう。

② 午前9時から午後4時45分までの時間は何時間何分ですか。

答え (                                  )





# 時こくと時間の もとめかた 8

## 2

● 正午をはさむ計算

日にち：            月            日

名まえ \_\_\_\_\_

1 午前8時から午後2時50分までの時間をもとめます。

(うすい字はなぞりましょう。)

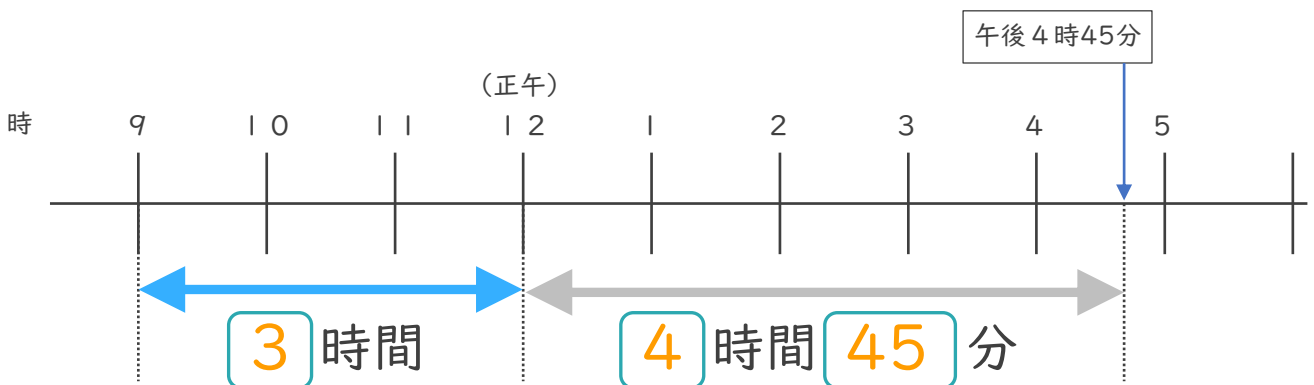


①  にあてはまる数を書きましょう。

② 午前8時から午後2時50分までの時間は何時間何分ですか。

答え (            6 時間 5 0 分            )

2 午前9時から午後4時45分までの時間をもとめます。



①  にあてはまる数を書きましょう。

② 午前9時から午後4時45分までの時間は何時間何分ですか。

答え (            7 時間 4 5 分            )

