



時こくと時間の もとめかた 8



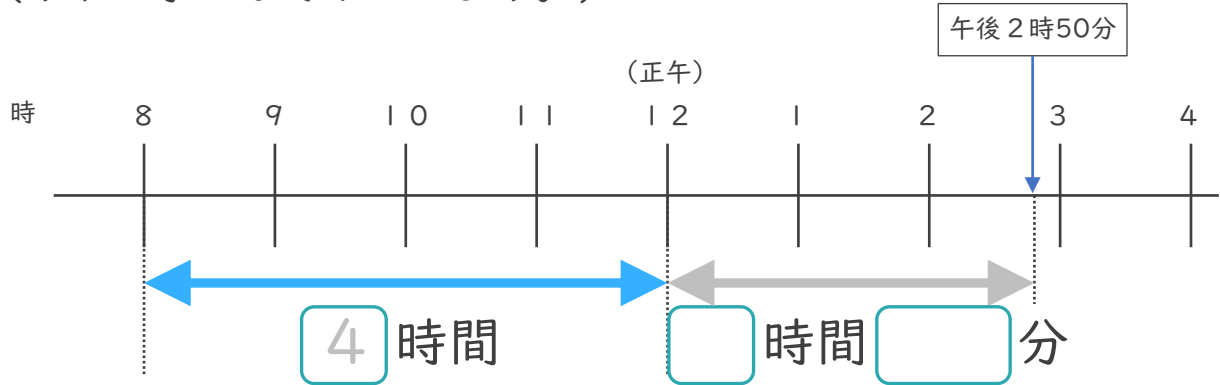
● 正午をはさむ計算

日にち： 月 日

名まえ _____

1 午前8時から午後2時50分までの時間をもとめます。

(うすい字はなぞりましょう。)

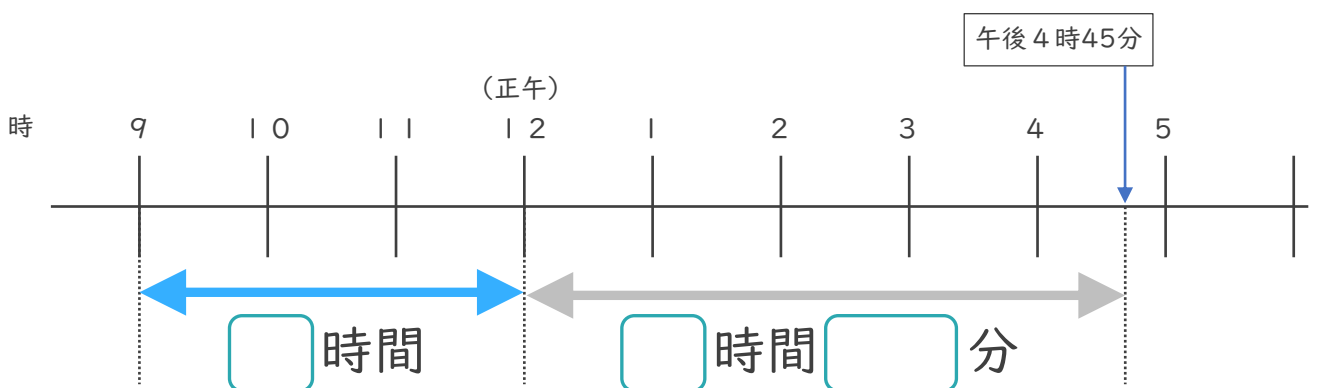


① □にあてはまる数を書きましょう。

② 午前8時から午後2時50分までの時間は何時間何分ですか。

答え (6 時間 5 0 分)

2 午前9時から午後4時45分までの時間をもとめます。



① □にあてはまる数を書きましょう。

② 午前9時から午後4時45分までの時間は何時間何分ですか。

答え ()



時こくと時間の もとめかた 8

2

● 正午をはさむ計算

日にち： 月 日

名まえ _____

1 午前8時から午後2時50分までの時間をもとめます。

(うすい字はなぞりましょう。)

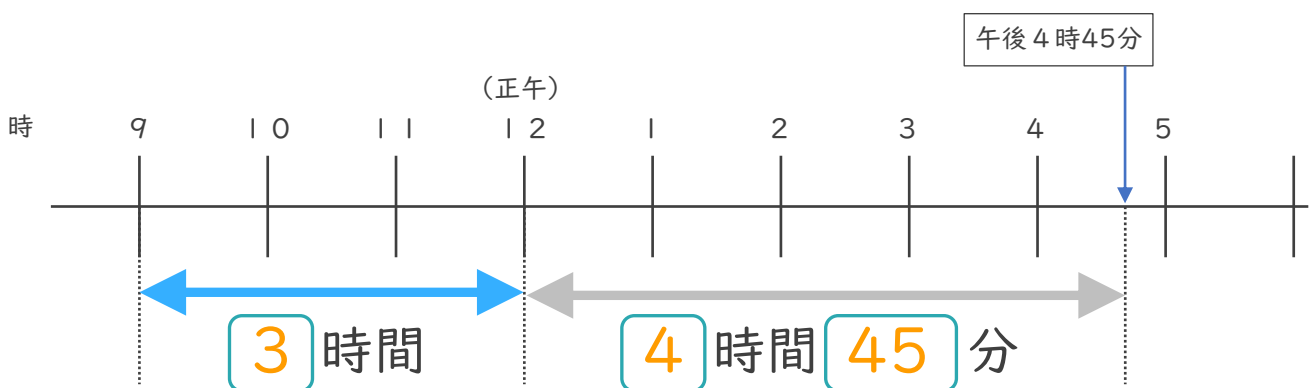


① にあてはまる数を書きましょう。

② 午前8時から午後2時50分までの時間は何時間何分ですか。

答え (6 時間 5 0 分)

2 午前9時から午後4時45分までの時間をもとめます。



① にあてはまる数を書きましょう。

② 午前9時から午後4時45分までの時間は何時間何分ですか。

答え (7 時間 4 5 分)

